

Документ подписан простой электронной подписью

Информация о владельце:

ФИО: Чирикова Лилия Ивановна

Должность: Директор филиала

Дата подписания: 26.12.2024 16:39:50

Уникальный программный ключ:

750e77999bb0631a45cbf7b4a579c1095bcef032814fee919138f73a4ce0cad5

**Примерный перечень заданий
дня диагностического тестирования при аккредитационном
мониторинге**

ОУД.04 ОБЩЕСТВОЗНАНИЕ

1. Какие два из перечисленных понятий используются для обозначения форм духовной культуры?

Семья, образование, религия, государство, политическая партия.

Выпишите соответствующие понятия и раскройте смысл любого одного из них.

2. Школьники по заданию учителя биологии провели наблюдения и определили основные источники загрязнения школьных классов. Какую деятельность иллюстрирует данный пример?

- 1) исследовательскую
- 2) хозяйственную
- 3) политическую
- 4) производственную

Ответ: 1

3. Верны ли следующие суждения о взаимосвязи природы и общества?

А. Общество обособилось от природы, но тесно с ней связано.

Б. Природа оказывает влияние на хозяйственную деятельность общества.

- 1) верно только А
- 2) верно только Б
- 3) верны оба суждения
- 4) оба суждения неверны

Ответ: 3

4. Рассмотрите фотографию.



Какая форма расчётов может быть проиллюстрирована с помощью данной фотографии?

Используя обществоведческие знания, факты общественной жизни и личный социальный опыт, назовите два недостатка данной формы расчётов и кратко поясните каждый недостаток

5. В стране Z на рынке производства автомобилей высокая конкуренция среди предприятий различной формы собственности. Такая ситуация свойственна экономике

- 1) централизованной
- 2) рыночной

- 3) монополизированной
 - 4) традиционной
- Ответ: 2

6. Верны ли следующие суждения о целях налоговой политики государства?

А. Одной из целей налоговой политики государства является перераспределение доходов от богатых к бедным с целью стабилизации общественных отношений.

Б. Целями налоговой политики государства являются: обеспечение обороноспособности страны; развитие науки, образования и здравоохранения.

- 1) верно только А
- 2) верно только Б
- 3) верны оба суждения
- 4) оба суждения неверны

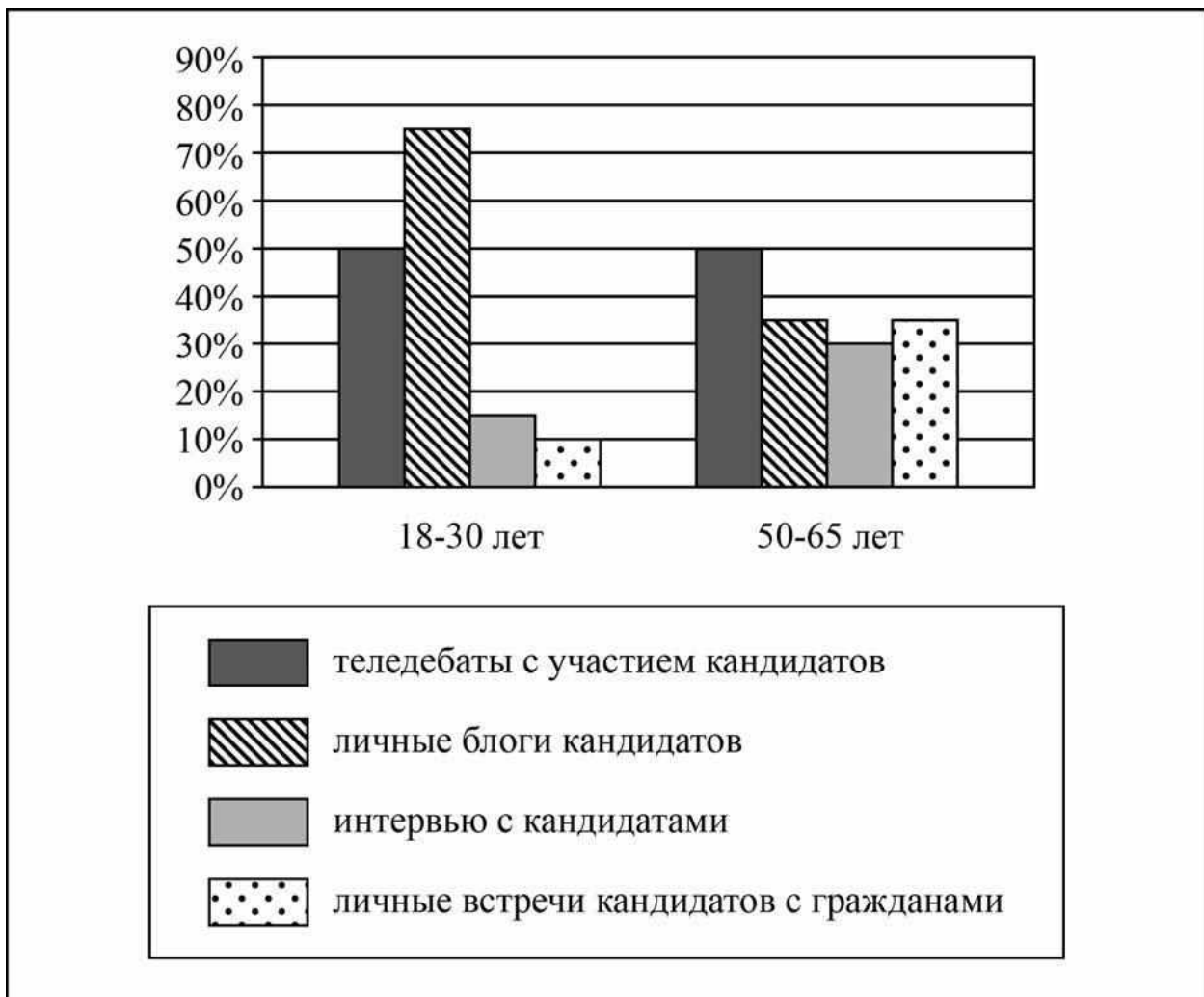
Ответ: 3

7. К виду этнических общностей относятся

- 1) классы
- 2) народности
- 3) элиты
- 4) сословия

Ответ: 2

8. В ходе социологического опроса совершеннолетних россиян им задавали вопрос: «Какие способы информирования избирателей о политических взглядах кандидатов являются наиболее эффективными?» (можно было дать несколько ответов). Результаты опроса (в % от числа опрошенных) представлены в виде диаграммы.



Сформулируйте по одному выводу: а) о сходстве; б) о различии в позициях групп опрошенных. Выскажите предположение о том, чем объясняются указанные Вами: а) сходство; б) различие.

9. В стране Z есть король, который царствует, но не правит. Законодательная власть осуществляется парламентом, избираемым гражданами, исполнительная – правительством, формируемым по результатам парламентских выборов. Также действуют независимые судебные органы. Какая форма правления сложилась в стране Z?

- 1) президентская республика
- 2) авторитарная республика
- 3) унитарная монархия
- 4) конституционная монархия

Ответ: 4

10. Установите соответствие между фактами и сферами общественной жизни: к каждому элементу, данному в первом столбце, подберите соответствующий элемент из второго столбца.

ФАКТЫ

СФЕРА ОБЩЕСТВЕННОЙ
ЖИЗНИ

- | | |
|--|------------------|
| А) обсуждение предвыборной программы кандидата в депутаты парламента | 1) политическая |
| Б) занятие фермерством | 2) экономическая |
| В) принятие закона парламентом | |
| Г) торги на товарно-сырьевой бирже | |
| Д) выборы главы государства | |

Запишите в таблицу выбранные цифры под соответствующими буквами.

Ответ:

А	Б	В	Г	Д
1	2	1	2	1

11. Что отличает конституцию от других нормативных правовых актов?

- 1) обладает высшей юридической силой
- 2) принимается государственным органом
- 3) охраняется силой и авторитетом государства
- 4) обязательна для исполнения

Ответ: 1

12. Что из перечисленного является примером уголовного правоотношения?

- 1) В местный бюджет были перечислены деньги из федерального бюджета.
- 2) Издательство выплатило гонорар авторам учебника.
- 3) Несовершеннолетний В. был усыновлён семьёй своего друга после потери родителей.
- 4) Чиновник был уличен в получении взятки.

Ответ: 4

13. Верны ли следующие суждения о полномочиях Президента РФ?

А. Согласно Конституции РФ, Президент РФ принимает решение об отставке Правительства РФ.

Б. Президент РФ разрабатывает и принимает государственный бюджет.

- 1) верно только А
- 2) верно только Б
- 3) верны оба суждения
- 4) оба суждения неверны

Ответ: 1

14. Заполните пропуск в таблице.

Отрасль права	Характеристика
Конституционное право	Устанавливает и закрепляет основы государственного устройства, обеспечивает соблюдение прав человека, регулирует порядок формирования органов государственной власти и принципы их деятельности
... право	Регулирует отношения между работником и работодателем

Ответ: трудовое

15. Какие два из перечисленных понятий используются для обозначения способов разрешения конфликта?

Социальная мобильность, стратификация, компромисс, переговоры, эскалация конфликта.

Выпишите соответствующие понятия и раскройте смысл любого одного из них.

16. Леонид – сотрудник правоохранительных органов. Он – честный и порядочный человек, у него много друзей. В свободное от работы время он тренирует дворовую детскую футбольную команду. Всё это характеризует Леонида как

- 1) товарища
- 2) индивида
- 3) личность
- 4) работника

Ответ: 3

17. Мужчина развёл костер, взял в руки бубен и начал свой танец. Он обращался к духам неба, реки и леса. Данный пример иллюстрирует деятельность в сфере

- 1) эстетики
- 2) религии
- 3) науки
- 4) морали

Ответ: 2

18. Верны ли следующие суждения о патриотизме?

А. Патриотизм проявляется в готовности подчинить свои интересы интересам Родины.

Б. Патриотизм проявляется в уважении к историческим традициям своего Отечества.

- 1) верно только А
- 2) верно только Б
- 3) верны оба суждения
- 4) оба суждения неверны

Ответ: 3

19. Гражданин П. много лет проживает в трёхкомнатной квартире, в которой ранее жили его родители. Какая дополнительная информация позволит сделать вывод о том, что эта квартира является его собственностью?

- 1) Гражданин произвёл в квартире дорогой ремонт.
- 2) Гражданин имеет право продать эту квартиру.
- 3) Гражданин зарегистрирован в этой квартире.
- 4) Вместе с гражданином в этой квартире проживает его семья.

Ответ: 2

20. Верны ли следующие суждения о деньгах?

А. Деньги выполняют функцию средства накопления.

Б. Деньги используются во внешнеторговых и в международных финансовых операциях.

- 1) верно только А
- 2) верно только Б
- 3) верны оба суждения
- 4) оба суждения неверны

Ответ: 3

21. Что относится к функциям семьи?

- 1) воспитание детей
- 2) сохранение окружающей среды
- 3) решение проблемы ограниченности ресурсов
- 4) поддержание политической стабильности

Ответ: 1

22. Автолюбители создали и зарегистрировали свою ассоциацию, которая выступает в защиту их интересов и предлагает правительству своё видение налогообложения автотранспортных средств, планов строительства и эксплуатации дорог. Этот пример иллюстрирует

- 1) проведение предвыборных кампаний
- 2) деятельность муниципальных органов
- 3) функционирование гражданского общества
- 4) обсуждение нового законопроекта

Ответ: 3

23. Установите соответствие между социальными общностями и критериями их выделения:

к каждому элементу, данному в первом столбце, подберите соответствующий элемент из второго столбца.

СОЦИАЛЬНЫЕ ОБЩНОСТИ

КРИТЕРИИ

- А) башкиры
- Б) петербуржцы
- В) удмурты
- Г) мусульмане
- Д) буддисты

- 1) этносоциальный
- 2) религиозный
- 3) территориальный

Запишите в таблицу выбранные цифры под соответствующими буквами.

Ответ:

А	Б	В	Г	Д
1	3	1	2	2

24. Гражданин К. подал заявление в отдел внутренних дел об утере паспорта. Возникшее правоотношение будет регулироваться

- 1) гражданским правом
- 2) административным правом
- 3) государственным правом
- 4) семейным правом

Ответ: 2

25. Семья Петровых купила квартиру в новом доме. Какая отрасль права регулирует сложившуюся ситуацию?

- 1) гражданское право
- 2) административное право
- 3) гражданско-процессуальное право
- 4) трудовое право

Ответ: 1

26. Верны ли следующие суждения о правонарушениях?

А. Правонарушения общественно вредны тем, что они дезорганизуют нормальный ритм жизнедеятельности общества.

Б. Противоправность есть объективное свойство правонарушения.

- 1) верно только А
- 2) верно только Б
- 3) верны оба суждения
- 4) оба суждения неверны

Ответ: 3

27. Заполните пропуск в таблице.

Основная сфера общественной жизни	Характеристика
Экономическая сфера	В ней организуется хозяйственная жизнь, координируются действия всех хозяйствующих субъектов
... сфера	В ней складываются отношения по поводу общественной власти и управления

Ответ: политическая

28. Целенаправленную деятельность человека по получению знаний и умений называют

- 1) моралью
- 2) образованием
- 3) творчеством
- 4) искусством

Ответ: 2

29. Верны ли следующие суждения о религии?

А. Религия основана на вере в сверхъестественные силы, влияющие на судьбы человека и общества.

Б. Религия включает в себя определённые нормы и правила поведения.

- 1) верно только А
- 2) верно только Б
- 3) верны оба суждения
- 4) оба суждения неверны

Ответ: 3

30. Рассмотрите фотографию.



Для иллюстрации какой ветви государственной власти может быть использована данная фотография? Как называется парламент России? Каковы полномочия Государственной Думы? (Назовите два полномочия.) Какую роль выборы играют в жизни общества?

31. Полина работает продавцом в магазине одежды. Её заработок зависит от того, сколько и каких вещей она продаст. Такой тип заработной платы называют

- 1) окладом
- 2) бонусом
- 3) премией
- 4) сдельным

Ответ: 4

32. Структура общества представлена социальными общностями и группами в многообразии их связей. Какая социальная группа выделена по профессиональному признаку?

- 1) пассажиры
- 2) мужчины
- 3) горожане
- 4) инженеры

Ответ: 4

33. Какой пример иллюстрирует деятельность гражданского общества?

- 1) Парламент принял поправку в Налоговый кодекс.
- 2) Жители микрорайона провели митинг против строительства торгово-развлекательного

центра на месте сквера.

3) Депутаты провели уроки в школах.

4) Президент страны одобрил инициативу депутатов.

Ответ: 2

34. Установите соответствие между примерами и видами социальных норм: к каждому элементу, данному в первом столбце, подберите соответствующий элемент из второго столбца.

ПРИМЕРЫ

ВИДЫ СОЦИАЛЬНЫХ НОРМ

А) Старшеклассники помогли ученику первого класса найти потерянные вещи.

1) нормы морали

2) традиции

Б) Ежегодно в школе проходит музыкальный фестиваль.

В) Несовершеннолетний Иван устроился в каникулы на работу, чтобы помочь родителям собрать деньги на лечение бабушки.

Г) По выходным вся семья собирается на воскресный обед.

Д) Школьники после уроков помогают пожилым людям по хозяйству.

Запишите в таблицу выбранные цифры под соответствующими буквами.

Ответ:

А	Б	В	Г	Д
1	2	1	2	1

35. В каком из приведённых случаев вступает в действие Закон «О защите прав потребителей»?

1) Гражданин приобрёл электрическую плиту, в которой был обнаружен брак завода-изготовителя.

2) Фирма поставила в магазин партию продуктов с истекшим сроком годности.

3) Склад принял на хранение партию лекарств, не имеющих сертификата.

4) Гражданин приобрёл партию недоброкачественного товара на мелкооптовом рынке для перепродажи её в другом городе.

Ответ: 1

36. Заполните пропуск в таблице.

Группа прав человека	Примеры
Социально-экономические права	Право на частную собственность, свобода предпринимательской деятельности, свобода труда, право на отдых и др.
... права	Право на жизнь, право на защиту чести и достоинства, право на свободу и личную неприкосновенность, право на неприкосновенность личной жизни и др.

Ответ: личные; гражданские

37. Какие два из перечисленных понятий используются в первую очередь при описании экономической сферы общества?

Издержки, власть, демократия, государство, прибыль.

Выпишите соответствующие понятия и раскройте смысл любого одного из них.

38. Что отличает науку от других форм (областей) духовной культуры?

- 1) обращение к различным источникам информации
- 2) создание и использование художественных образов
- 3) разностороннее отражение особенностей личности
- 4) теоретическое обоснование выявленной закономерности

Ответ: 4

39. Верны ли следующие суждения о морали?

А. Нравственная оценка поступка связана с пониманием добра и зла.

Б. Совесть – главный «контролёр» человека в вопросах морали.

- 1) верно только А
- 2) верно только Б
- 3) верны оба суждения
- 4) оба суждения неверны

Ответ: 3

40. Рассмотрите фотографию.



Для иллюстрации какой социальной потребности человека может быть использована данная фотография? Объясните, почему эту потребность относят к социальным. Какие ещё потребности относят к этому виду? (Назовите любые две потребности.) Какова роль потребностей в жизни?

41. Верны ли следующие суждения о торговле?

А. Оптовая торговля предполагает продажу крупных партий товаров.

Б. Розничная торговля может осуществляться через торговые автоматы и по каталогам.

- 1) верно только А
- 2) верно только Б
- 3) верны оба суждения
- 4) оба суждения неверны

Ответ: 3

42. В состав государства Z входят 12 территориальных единиц, которые имеют свои конституции, высшие органы власти. При этом существует единое законодательство, образующее общегосударственные высшие органы власти. Какова форма государственно-территориального устройства страны Z?

- 1) социальное государство
- 2) республика

3) унитарное государство

4) федерация

Ответ: 4

43. Установите соответствие между полномочиями и субъектами государственной власти в РФ: к каждому элементу, данному в первом столбце, подберите соответствующий элемент из второго столбца.

ПОЛНОМОЧИЯ

**СУБЪЕКТЫ
ГОСУДАРСТВЕННОЙ ВЛАСТИ**

А) утверждение изменения границ между субъектами РФ

Б) управление федеральной собственностью

В) проведение единой финансовой, кредитной и денежной политики

Г) обеспечение и исполнение государственного бюджета

Д) объявление амнистии

1) Государственная Дума

2) Совет Федерации

3) Правительство РФ

Запишите в таблицу выбранные цифры под соответствующими буквами.

Ответ:

А	Б	В	Г	Д
2	3	3	3	1

44. Молодые люди распивали пиво на детской площадке. Эти действия являются

1) уголовным преступлением

2) административным проступком

3) гражданским проступком

4) дисциплинарным нарушением

Ответ: 2

45. Производитель (продавец) товара обязан указывать его состав и предупреждать о потенциальных факторах риска от применения товара. Какое право потребителя защищается этими действиями?

1) на потребительское образование

2) на отказ от приобретённого товара

3) на полную информацию о товаре

4) на возмещение ущерба

Ответ: 3

46. Верны ли следующие суждения о классификации права российских граждан?

А. Право на свободу и личную неприкосновенность относится к группе политических прав.

Б. Право обращаться в государственные органы относится к группе личных (гражданских) прав.

1) верно только А

2) верно только Б

3) верны оба суждения

4) оба суждения неверны

Ответ: 4

47. Заполните пропуск в таблице.

Вид культуры	Характеристика
--------------	----------------

Материальная культура	Совокупность предметов, устройств, сооружений, то есть искусственно сотворённый человеком предметный мир
... культура	Совокупность нематериальных элементов культуры: нормы поведения, нравственность, ценности, ритуалы, символы, знания, мифы, идеи, обычаи, традиции, язык

Ответ: духовная

48. Какие два из перечисленных понятий используются в первую очередь при описании трудовых правоотношений?

Рабочее время, компенсация морального вреда, заработная плата, преступление, наказание.
 Выпишите соответствующие понятия и раскройте смысл любого одного из них.

49. Политическая организация выпускает большим тиражом газету, в которой критикует политику правительства в отношении пенсионеров. Какие сферы жизни общества затрагивает эта деятельность?

- 1) политическую и социальную
- 2) экономическую и социальную
- 3) политическую и духовную
- 4) экономическую и духовную

Ответ: 1

50. Рассмотрите фотографию.



Для иллюстрации какой формы (вида) деятельности может быть использовано изображение женщины, сидящей лицом к другим людям на фотографии? (Укажите не конкретное, а наиболее общее название.). Объясните, в чём состоит сущность данной формы (вида) деятельности. Какова положительная роль данной деятельности в жизни человека? Как Вы думаете, какие качества необходимы женщине, изображённой на фотографии, чтобы её деятельность была успешной?

Пояснение:

Изображение женщины, сидящей лицом к другим людям на фотографии, может быть использовано для иллюстрации труда.

Труд — форма деятельности, которая направлена на достижение практически полезного результата.

Данная форма деятельности направлена на достижение практически полезного результата, требует наличия мастерства, умений, знаний.

Необходимые качества: дисциплина, ответственность, коммуникабельность, трудолюбие.

51. Верны ли следующие суждения о деньгах?

А. При покупке товара деньги выступают как средство накопления.

Б. Деньги могут обмениваться на другой товар, связывая участников рынка.

1) верно только А

2) верно только Б

3) верны оба суждения

4) оба суждения неверны

Ответ: 2

52. Какие из приведённых терминов характеризуют демографическую структуру общества?

1) пожилые люди, молодёжь

2) русские, украинцы

3) маргиналы, средние слои

4) православные, буддисты

Ответ: 1

53. Инициативная группа жителей района выступила против намеченного руководством города строительства торгово-развлекательного комплекса. Данный факт иллюстрирует наличие

1) авторитарного режима

2) гражданского общества

3) политической системы

4) местного самоуправления

Ответ: 2

54. Установите соответствие между социальными ролями и социальными группами: к каждому элементу, данному в первом столбце, подберите соответствующий элемент из второго столбца.

СОЦИАЛЬНЫЕ РОЛИ

СОЦИАЛЬНЫЕ ГРУППЫ

А) покупатель

Б) пользователь

Интернета

В) учащийся гимназии

Г) офицер

Д) избиратель

1) подростки

2) взрослые

3) и подростки, и

взрослые

Запишите в таблицу выбранные цифры под соответствующими буквами.

Ответ:

А	Б	В	Г	Д
3	3	1	2	2

55. Правонарушением является

1) заключение договора найма жилья

2) регистрация на бирже труда в качестве безработного

3) прогул работы

4) продажа квартиры в кредит

Ответ: 3

56. В какой из приведённых ситуаций собственник распорядился принадлежащим ему имуществом?

- 1) Антон Сергеевич, проживая за границей, имеет в собственности квартиру в России.
- 2) Марина Васильевна подарила принадлежащий ей автомобиль своему сыну.
- 3) Пётр на своём автомобиле выполняет работу курьера.
- 4) Семья Антоновых имеет загородную дачу, но не проживает в ней постоянно.

Ответ: 2

57. Верны ли следующие суждения о правовых основах брака и семьи?

А. Для вступления в брак необходимо наличие постоянного источника доходов у жениха и невесты.

Б. Для вступления в брак необходимо достижение установленного законом брачного возраста.

- 1) верно только А
- 2) верно только Б
- 3) верны оба суждения
- 4) оба суждения неверны

Ответ: 2

58. Заполните пропуск в таблице.

Понятие морали	Характеристика
Добро	То, что хорошо, полезно, нужно человеку, с чем связаны надежды людей, представления о свободе и счастье
...	Способность критически оценивать своё поведение и свои поступки, эмоционально реагировать на своё несоответствие морально должному

Ответ: совесть.

59. Какие два из перечисленных понятий используются в первую очередь при описании прирождённого статуса?

Пол, образование, профессия, семейное положение, раса.

Выпишите соответствующие понятия и раскройте смысл любого одного из них.

60. Рассмотрите фотографию.



Приобщение к какой форме (области) культуры может быть проиллюстрировано с помощью данной фотографии? Используя обществоведческие знания, факты общественной жизни и личный социальный опыт, сформулируйте два совета для сверстников о том, как правильно подготовиться к посещению выставки. Кратко поясните каждый совет.

Ответ:

- 1) Искусство
- 2) Музеи сохраняют произведения искусства, позволяют людям знакомиться с духовными и материальными ценностями определенных эпох
- 3) Ребенок усваивает ценности национальной и мировой культуры, развивает свой кругозор
- 4) Литература, театр

61. Что отличает рыночную экономику от других типов экономических систем?

- 1) преобладание государственной формы собственности
- 2) государственное регулирование хозяйственной деятельности
- 3) установление цен в результате баланса спроса и предложения
- 4) централизованное распределение факторов производства

Ответ: 3

62. 13-процентный налог взимается с доходов физических лиц (граждан). Объектом налога является

- 1) налогоплательщик
- 2) заработная плата
- 3) фирма
- 4) налоговая служба

Ответ: 2

63. Верны ли следующие суждения о соотношении спроса и предложения в рыночной экономике?

А. Рост предложения товара на рынке, как правило, сопровождается снижением его цены.

Б. На рынке есть группы товаров, на которые существует стабильный спрос, не зависящий от цен, – это товары жизненной необходимости.

- 1) верно только А
- 2) верно только Б
- 3) верны оба суждения
- 4) оба суждения неверны

Ответ: 3

64. Какая социальная группа выделена по демографическому признаку?

- 1) петербуржцы
- 2) преподаватели экономики
- 3) работодатели
- 4) мужчины

Ответ: 4

65. Что отличает рыночную экономику от других типов экономических систем?

- 1) преобладание государственной формы собственности
- 2) государственное регулирование хозяйственной деятельности
- 3) установление цен в результате баланса спроса и предложения
- 4) централизованное распределение факторов производства

Ответ: 3

66. 13-процентный налог взимается с доходов физических лиц (граждан). Объектом налога является

- 1) налогоплательщик
- 2) заработная плата
- 3) фирма
- 4) налоговая служба

Ответ: 2

67. Верны ли следующие суждения о соотношении спроса и предложения в рыночной экономике?

А. Рост предложения товара на рынке, как правило, сопровождается снижением его цены.

Б. На рынке есть группы товаров, на которые существует стабильный спрос, не зависящий от цен, – это товары жизненной необходимости.

- 1) верно только А
- 2) верно только Б
- 3) верны оба суждения
- 4) оба суждения неверны

Ответ: 3

68. Какая социальная группа выделена по демографическому признаку?

- 1) петербуржцы
- 2) преподаватели экономики
- 3) работодатели
- 4) мужчины

Ответ: 4

69. Заполните пропуск в таблице.

Отрасль права	Характеристика
Уголовное право	Устанавливает, какое общественно опасное поведение является преступным и какое следует применить наказание за совершение преступления
... право	Устанавливает и закрепляет основы государственного устройства, обеспечивает соблюдение прав человека, регулирует порядок формирования органов государственной власти и принципы их деятельности

Ответ: конституционное; государственное

70. Рассмотрите фотографию.



Какой нормативный правовой акт регулирует экономические отношения, которые могут быть проиллюстрированы с помощью данной фотографии? Используя обществоведческие знания, факты общественной жизни и личный социальный опыт, приведите примеры двух любых прав потребителя и кратко поясните их использование.

Ответ:

1) Потребитель имеет право на то, что товар, работа, услуга при обычных условиях его использования, хранения, транспортировки и утилизации была безопасна для жизни и здоровья потребителя, окружающей среды, а также не причиняла вред имуществу потребителя. Требования, которые должны обеспечивать безопасность товара, работы, услуги для жизни и здоровья потребителя, окружающей среды, а также предотвращения причинения вреда имуществу потребителя являются обязательными и устанавливаются законом или в установленном порядке.

Объяснение:

2) Изготовитель, исполнитель обязан обеспечивать безопасность товара, работы в течение установленного срока службы или срока годности товара, работы. Если в соответствии с пунктом 1 статьи 5 настоящего закона изготовитель, исполнитель не установил на товар, работу срок службы, он обязан обеспечить безопасность товара, работы в течение 10 лет со дня передачи товара потребителю. Вред, причиненный жизни, здоровью или имуществу потребителя, исследование, не обеспечения безопасности товара.

71. Парламент в государстве Z избирается населением. Какая дополнительная информация позволит сделать вывод о том, что в государстве Z установлен демократический режим?

- 1) В стране Z республиканская форма правления.
- 2) В стране Z реализован принцип разделения властей.
- 3) Страна Z разделена на несколько провинций.
- 4) Правительство формируется партией, победившей на выборах.

Ответ: 2

72. Установите соответствие между видами правонарушения и отраслями права: к каждому элементу, данному в первом столбце, подберите соответствующий элемент из второго столбца.

ВИДЫ ПРАВОНАРУШЕНИЯ

ОТРАСЛИ ПРАВА

- | | |
|---|---------------------------|
| А) нарушение правил торговли на рынке | 1) административное право |
| Б) опоздание служащего к началу рабочего дня | 2) трудовое право |
| В) нарушение правил назначения испытательного срока работника | 3) уголовное право |
| Г) нарушение правил дорожного движения | |
| Д) дача ложных показаний в суде | |

Запишите в таблицу выбранные цифры под соответствующими буквами.

Ответ:

А	Б	В	Г	Д
1	2	2	1	3

73. Видом ответственности за административное правонарушение, в отличие от ответственности за уголовное правонарушение, может быть

- 1) предупреждение
- 2) лишение свободы
- 3) исправительные работы
- 4) штраф

Ответ: 1

74. Какая из перечисленных норм относится к трудовому праву?

- 1) Гражданин достигает полной дееспособности в 18 лет.
- 2) Не допускается экономическая деятельность, направленная на монополизацию и недобросовестную конкуренцию.
- 3) При приёме на работу на срок до двух месяцев испытательный срок работникам не устанавливается.
- 4) Лицо, осуществляющее самовольную постройку, не приобретает на неё права собственности.

Ответ: 3

75. Верны ли следующие суждения о правах и свободах человека и гражданина в РФ?

А. Каждому гражданину РФ гарантируется свобода мысли и слова.

Б. Никто не может быть принуждён к вступлению в какое-либо объединение или пребыванию в нём.

- 1) верно только А
- 2) верно только Б
- 3) верны оба суждения
- 4) оба суждения не верны

Ответ: 3

76. Заполните пропуск в таблице.

Понятие	Характеристика
Индивид	Единичный представитель человечества
...	Совокупность социально значимых качеств индивида, формирующихся в процессе общественной жизни

Ответ: личность

77. Рассмотрите фотографию.



Какой тип семьи может быть проиллюстрирован с помощью данной фотографии? Что отличает семью от...

Ответ:

Нуклеарные, среднедетные

Отличия: родственные связи, общий быт.

Воспитательная функция – состоит в удовлетворении индивидуальных потребностей в отцовстве, материнстве, в воспитании детей и самореализации в детях.

Функции: репродуктивная, воспитательная, хозяйственно-экономическая, правовая.

78. Конечный результат хозяйственной деятельности, выраженный в сумме, на которую полученная выручка превышает затраты на производство и реализацию товара, – это

- 1) цена
- 2) спрос
- 3) предложение
- 4) прибыль

Ответ: 4

79. Максим работает финансовым консультантом в банке. Владелец банка установил Максиму неизменную ежемесячную сумму заработной платы. Такой тип заработной платы называют

- 1) сдельным
- 2) окладом
- 3) премией
- 4) бонусом

Ответ: 2

80. Верны ли следующие суждения о налогах?

А. Налоги составляют доходную часть государственного бюджета.
Б. Прямые налоги, в отличие от косвенных, обязательны для уплаты.

- 1) верно только А
- 2) верно только Б
- 3) верны оба суждения
- 4) оба суждения неверны

Ответ: 1

81. Социальные нормы, которые регулируют поведение людей с позицией «добро» и «зло», «плохо» и «хорошо», называют

- 1) политическими
- 2) правовыми
- 3) моральными
- 4) эстетическими

Ответ: 3

82. В стране Z глава государства получает власть по наследству, законы принимаются законодательным

- 1) унитарное государство
- 2) парламентская республика
- 3) абсолютная монархия
- 4) парламентарная монархия

Ответ: 4

83. Установите соответствие между полномочиями и субъектами государственной власти РФ: к каждому элементу, данному в первом столбце, подберите соответствующий элемент из второго столбца.

ПОЛНОМОЧИЯ

- А) утверждение изменения границ между субъектами РФ
- Б) объявление амнистии
- В) назначение выборов Президента РФ
- Г) обеспечение исполнения федерального бюджета
- Д) управление федеральной собственностью

**СУБЪЕКТЫ
ГОСУДАРСТВЕННОЙ ВЛАСТИ**

- 1) Правительство РФ
- 2) Совет Федерации
- 3) Государственная Дума

Запишите в таблицу выбранные цифры под соответствующими буквами.

Ответ:

А	Б	В	Г	Д
2	3	2	1	1

84. Что отличает право от других социальных норм?

- 1) регулирование поведения людей
- 2) ограничение свободы членов общества
- 3) введение правил общественной жизни
- 4) установление государством

Ответ: 4

85. Гражданин перебежал дорогу на красный сигнал светофора и был остановлен работником дорожно-постовой службы. Нормы какой отрасли права регулируют данную ситуацию?

- 1) уголовного права
- 2) гражданского права
- 3) трудового права

4) административного права

Ответ: 4

86. Верны ли следующие суждения о правах человека?

А. Права человека неделимы: каждый человек обладает всей совокупностью прав.

Б. К социально-экономическим правам человека относят своевременную уплату налогов.

1) верно только А

2) верно только Б

3) верны оба суждения

4) оба суждения неверны

Ответ: 1

87. Заполните пропуск в таблице.

Форма торговли	Характеристика
Оптовая	Реализуются крупные партии товара, обычно для последующей перепродажи
...	Товар реализуется поштучно или в небольших количествах для личного, семейного потребления

Ответ: розничная

88. Запишите слово, пропущенное в таблице.

Характеристика правонарушений

ВИД ПРАВОНАРУШЕНИЙ ПО СТЕПЕНИ ОБЩЕСТВЕННОЙ ОПАСНОСТИ	ХАРАКТЕРИСТИКА
Преступление	Виновное общественно опасное деяние, запрещённое уголовным законодательством под угрозой наказания
...	Вид правонарушений, за который законом не предусмотрена уголовная ответственность

Ответ: проступки; проступок

89. В приведённом ниже ряду найдите понятие, которое обобщает/включает все остальные представленные понятия. Запишите это **слово (словосочетание)**.

Семья, школа, политическая партия, трудовой коллектив, агент социализации.

2 Ответ: агент социализации.

90. Ниже приведён перечень терминов. Все они, за исключением двух, относятся к понятию «социальный контроль».

1) наказание; 2) санкция; 3) поощрение; 4) идеология; 5) осуждение; 6) социальная дифференциация.

Найдите два термина, «выпадающих» из общего ряда, и запишите в таблицу цифры, под которыми они указаны.

Ответ: 4, 6

91. Выберите верные суждения о культуре и её видах и запишите **цифры**, под которыми они указаны.

- 1) Культура – это все виды преобразовательной деятельности людей и её результаты.
- 2) К материальной культуре относят нормы морали.
- 3) В развитии культуры отмечают такие тенденции, как преемственность и новаторство.
- 4) Произведения массовой культуры предъявляют высокие требования к общекультурному уровню потребителя.
- 5) Народная культура, как правило, создаётся коллективной творческой деятельностью народа, отражает его жизнь и традиции.

Ответ: 1, 3, 5.

92. В стране Z господствует натуральное хозяйство. Какие иные признаки из перечисленных свидетельствуют о том, что страна Z развивается как традиционное общество? Запишите цифры, под которыми они указаны.

- 1) Устная информация преобладает над письменной.
- 2) Происходит быстрый рост городского населения.
- 3) Преобладают экстенсивные технологии и ручные орудия труда.
- 4) Основными социальными ячейками являются община и семья.
- 5) Широко распространяются научные знания.
- 6) Интенсивно развивается инфраструктура.

Ответ: 1, 3, 4.

93. Установите соответствие между примерами и видами налогов и сборов согласно Налоговому кодексу РФ: к каждой позиции, данной в первом столбце, подберите соответствующую позицию из второго столбца.

ПРИМЕРЫ	ВИДЫ НАЛОГОВ И СБОРОВ В РФ
А) водный налог	1) федеральные
Б) налог на доходы физических лиц	2) региональные
В) сборы за пользование объектами животного мира	3) местные
Г) торговый сбор	
Д) транспортный налог	

Запишите в таблицу выбранные цифры под соответствующими буквами.

Ответ:

А	Б	В	Г	Д
1	1	1	3	2

94. Установите соответствие между полномочиями и субъектами государственной власти Российской Федерации, реализующими эти полномочия: к каждой позиции, данной в первом столбце, подберите соответствующую позицию из второго столбца.

ПОЛНОМОЧИЯ	СУБЪЕКТЫ ГОСУДАРСТВЕННОЙ ВЛАСТИ РФ
А) объявление амнистии	1) Президент РФ
Б) решение вопросов гражданства РФ	2) Правительство РФ
В) награждение государственными наградами РФ	3) Государственная Дума
Г) осуществление мер по обеспечению законности, прав и свобод граждан	
Д) разработка федерального бюджета	

Запишите в таблицу выбранные цифры под соответствующими буквами.

Ответ:

А	Б	В	Г	Д
3	1	1	2	2

95. Установите соответствие между примерами и основаниями прекращения трудового договора в соответствии с Трудовым кодексом Российской Федерации: к каждой позиции, данной в первом столбце, подберите соответствующую позицию из второго столбца.

ПРИМЕРЫ

А) Ираклий З. без уважительных причин не исполнял трудовых обязанностей и имел несколько дисциплинарных взысканий.

Б) Комиссия по охране труда установила, что Иван Ж. нарушил требования охраны труда, что повлекло несчастный случай на производстве.

В) Матвей З. был признан полностью неспособным к трудовой деятельности в соответствии с медицинским заключением.

Г) 26-летний Пётр Ч. был направлен на альтернативную гражданскую службу.

Д) Виктория К. нашла более престижную работу.

ОСНОВАНИЯ ПРЕКРАЩЕНИЯ ТРУДОВОГО ДОГОВОРА

1) инициатива работника

2) инициатива работодателя

3) обстоятельства, не зависящие от воли

Запишите в таблицу выбранные цифры под соответствующими буквами.

Ответ:

А	Б	В	Г	Д
2	2	3	3	1

96. Выберите **одно** из предложенных ниже высказываний и на его основе напишите мини-сочинение.

Сформулируйте корректно одну или несколько основных идей затронутой автором темы и раскройте её (их) с опорой на обществоведческие знания.

Для раскрытия сформулированной(-ых) Вами основной(-ых) идеи(-й) приведите рассуждения и выводы, используя обществоведческие знания (соответствующие понятия, теоретические положения).

Для иллюстрации сформулированных Вами основной(-ых) идеи(-й), теоретических положений, рассуждений и выводов приведите не менее двух социальных фактов/примеров из различных источников:

– из общественной жизни современного общества (реальные факты и модели социальных ситуаций), в том числе по материалам СМИ, интернет-ресурсов социологических служб;

– из личного социального опыта, в том числе события из Вашей жизни и жизни Ваших родственников/знакомых, прочитанные книги, просмотренные кинофильмы/театральные постановки и др.;

– из истории, включая историю литературы и искусства, различных наук и техники.

Каждый приводимый факт/пример должен быть сформулирован развернуто и

подтверждать обозначенную основную идею, теоретическое положение, рассуждение или вывод / быть с ними явно связан. По своему содержанию примеры не должны быть однотипными (не должны дублировать друг друга).

17.1	Философия	«Как человеческое творение культура превосходит природу, хотя её источником, материалом и местом действия является природа». (П.С. Гуревич)
17.2	Экономика	«Товар может быть олицетворением инженерной мечты и кошмаром для сбыта одновременно». (Д. Хьюджес)
17.3	Социология, социальная психология	«Социальный статус родителей человека обычно оказывает небольшое непосредственное воздействие на его профессиональные достижения». (П. Блау)
17.4	Политология	«Равенство – сущность демократии и наибольшая угроза для демократии». (М. Комар)
17.5	Правоведение	«Не следует законами достигать того, чего можно достигнуть улучшением нравов». (Ш. Монтескьё)
17.1	Философия	«Культура – она ведь всемирная, не закрытая, а именно открытая эстетическая система...». (Д.С. Лихачёв)
17.2	Экономика	«Если мы перестанем предлагать новые решения, чтобы соответствовать запросам потребителей и технологическому прогрессу, нас в любое время могут вытеснить из бизнеса». (Д. Рейкс)
17.3	Социология, социальная психология	«Труд облагораживает человека». (В.Г. Белинский)
17.4	Политология	«Если вы не будете заниматься политикой, политика займётся вами». (Ш. Монталамбер)
17.5	Правоведение	«Когда авторитет законов захватывает не только поступки, но и мнения, всё законодательство становится на слишком опасную почву и в то же время страдает индивидуальность и независимость каждого». (Г. Бокль)

97. В стране Z определяющими становятся знания. Какие иные признаки из перечисленных свидетельствуют о том, что страна Z развивается как постиндустриальное общество? Запишите **цифры**, под которыми они указаны.

- 1) Общественные взаимодействия регулируются существующими в стране социальными нормами.
- 2) Одним из доминирующих в стране секторов производства является сфера услуг.
- 3) Преобладают экстенсивные методы ведения хозяйства.
- 4) Природные факторы оказывают влияние на развитие общества.
- 5) Наибольшее развитие получают наукоёмкие, ресурсосберегающие технологии.
- 6) Происходит широкое внедрение компьютерной техники в различные области жизни общества.

Ответ: 2, 5, 6.

98. Установите соответствие между полномочиями и субъектами государственной власти Российской Федерации, реализующими эти полномочия: к каждой позиции, данной в первом столбце, подберите соответствующую позицию из второго столбца.

ПОЛНОМОЧИЯ	СУБЪЕКТЫ ГОСУДАРСТВЕННОЙ ВЛАСТИ РФ
<p>А) осуществление мер по обеспечению обороны страны</p> <p>Б) утверждение военной доктрины РФ</p> <p>В) разрешение споров о компетенции между федеральными органами государственной власти</p> <p>Г) обеспечение исполнения федерального бюджета</p> <p>Д) осуществление управления федеральной собственностью</p>	<p>1) Президент РФ</p> <p>2) Конституционный Суд РФ</p> <p>3) Правительство РФ</p>

Запишите в таблицу выбранные цифры под соответствующими буквами.

Ответ:

А	Б	В	Г	Д
3	1	2	3	3

99. Ниже приведён перечень характеристик. Все они, за исключением двух, относятся к традиционному обществу.

- 1) *внедрение в производство достижений науки;*
- 2) *преобладание патриархальных семей;*
- 3) *высокий уровень социальной мобильности;*
- 4) *господство натурального хозяйства;*
- 5) *религиозный характер культуры;*
- 6) *аграрно-сырьевой характер хозяйства.*

Найдите две характеристики, «выпадающие» из общего ряда, и запишите в таблицу цифры, под которыми они указаны.

Ответ: 1, 3

100. После окончания школы Виталий планирует поступить в архитектурный институт. Он занимается в художественной студии, участвует в различных архитектурных выставках. Много внимания Виталий уделяет черчению и рисованию.

Найдите в приведённом списке примеры средств, используемых для достижения цели.

Запишите **цифры**, под которыми они указаны.

- 1) поступление в институт
- 2) занятия в художественной студии
- 3) занятия черчением и рисованием
- 4) получение профессии архитектора
- 5) учёба в институте
- 6) участие в архитектурных выставках

Ответ: 2, 3, 6.

101. Выберите верные суждения о ценных бумагах и запишите **цифры**, под которыми они указаны.

- 1) Ценная бумага – это документ, выпускаемый фирмами, финансовыми организациями, государством для получения дополнительного капитала.
- 2) Различают долевые и долговые ценные бумаги.
- 3) Реализация ценных бумаг осуществляется на товарном рынке.

4) Акция – это ценная бумага без установленного срока обращения, являющаяся свидетельством о получении доли в имуществе компании и дающая её владельцу право получения части прибыли в виде дивиденда.

5) Выпуск ценных бумаг называется дефицит.

Ответ: 1, 2, 4.

102. Установите соответствие между примерами и видами безработицы: к каждой позиции, данной в первом столбце, подберите соответствующую позицию из второго столбца.

ПРИМЕРЫ

А) В связи с изменением спроса на энергоресурсы многие шахты закрылись, а шахтёры остались без работы.

Б) Выпускники творческих вузов долго ищут работу по специальности, не соглашаясь ни на какую другую.

В) Полгода жители курортного городка обслуживают туристов, а в остальное время большинство из них не работает.

Г) Безработные отказываются от рабочих вакансий и просят подобрать им работу менеджеров.

Д) В связи с экономическим кризисом фирмы, производящие различные товары и услуги, сократили численность персонала.

ВИДЫ БЕЗРАБОТИЦЫ

1) фрикционная

2) циклическая

3) сезонная

4) структурная

Запишите в таблицу выбранные цифры под соответствующими буквами.

Ответ:

А	Б	В	Г	Д
4	1	3	1	2

103. В стране Z большинство предприятий находится в частной собственности, но действуют государственные и муниципальные предприятия. Какие из перечисленных признаков позволяют сделать вывод о том, что в стране Z рыночная экономика? Запишите цифры, под которыми они указаны.

1) Каждый гражданин имеет право на свободное использование своих способностей и имущества для предпринимательской и иной не запрещённой законом экономической деятельности.

2) Производители товаров и услуг конкурируют между собой за спрос потребителей.

3) В расчётах между предприятиями активно применяется безналичная форма.

4) Цены на товары и услуги определяются соотношением спроса и предложения.

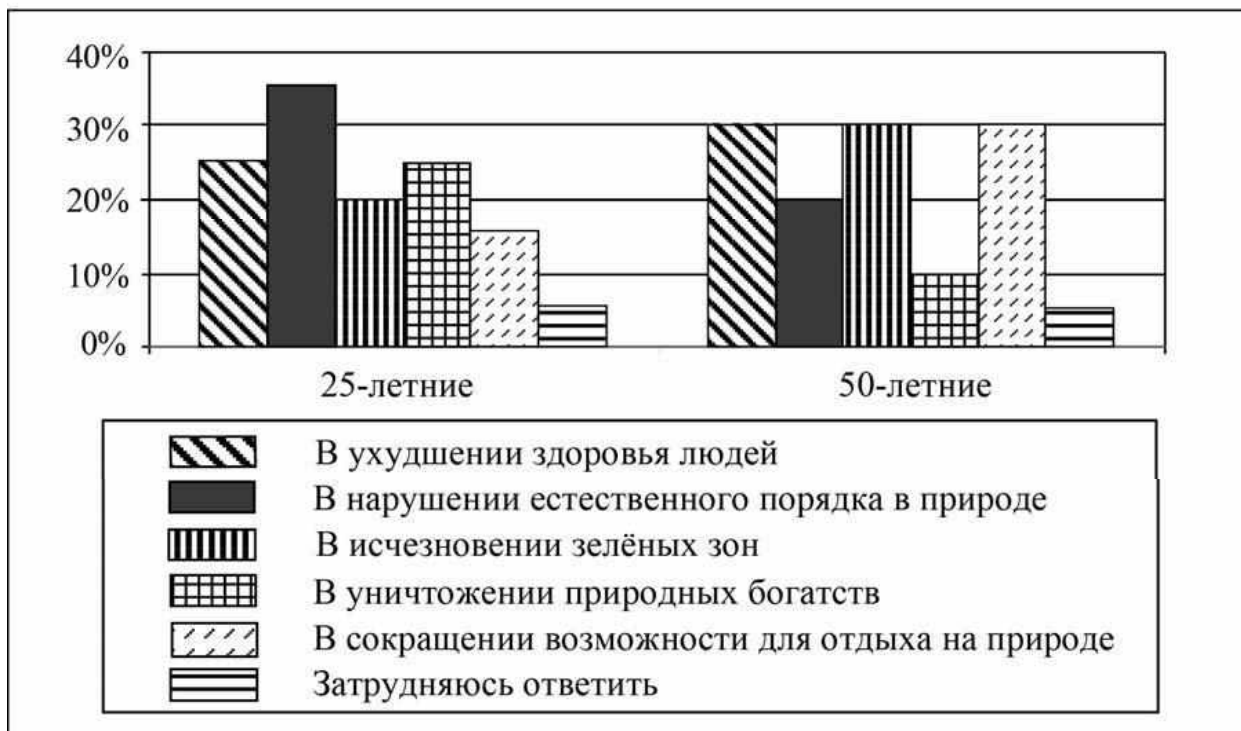
5) Государство осуществляет централизованное распределение ресурсов.

6) Предприятиям не приходится решать проблему ограниченности ресурсов.

Ответ: 1, 2, 4.

104. В ходе социологических опросов 25-летних и 50-летних граждан страны Z им задавали вопрос: «В чём конкретно проявляется ухудшение окружающей среды в вашем населённом пункте и его окрестностях?» (можно было выбрать несколько ответов).

Полученные результаты (в % от числа опрошенных) представлены в виде диаграммы.



Найдите в приведённом списке выводы, которые можно сделать на основе диаграммы, и запишите **цифры**, под которыми они указаны.

- 1) Доля тех, кто отметил ухудшение здоровья людей, среди 50-летних меньше, чем среди 25-летних.
- 2) Среди 25-летних доля тех, кто отметил нарушение естественного порядка в природе, больше доли тех, кто отметил сокращение возможности для отдыха на природе.
- 3) Доля тех, кто затруднился с ответом, среди 50-летних больше, чем среди 25-летних.
- 4) Равные доли 50-летних отметили исчезновение зелёных зон и сокращение возможности для отдыха на природе.
- 5) Доля тех, кто отметил уничтожение природных богатств, среди 50-летних меньше, чем среди 25-летних.

Ответ: 2, 4, 5.

105. Установите соответствие между вопросами и субъектами государственной власти Российской Федерации, к ведению которых эти вопросы относятся: к каждой позиции, данной в первом столбце, подберите соответствующую позицию из второго столбца.

ВОПРОСЫ

СУБЪЕКТЫ
ГОСУДАРСТВЕННОЙ ВЛАСТИ
РФ

- А) судоустройство, прокуратура
- Б) государственные награды РФ
- В) координация вопросов здравоохранения
- Г) защита исконной среды обитания и традиционного образа жизни малочисленных этнических общностей
- Д) оборона и безопасность

- 1) только федеральный центр
- 2) совместно федеральный центр и субъекты РФ

Запишите в таблицу выбранные цифры под соответствующими буквами.

Ответ:

А	Б	В	Г	Д
1	1	2	2	1

106. Какие из перечисленных позиций относятся к основам конституционного строя Российской Федерации? Запишите цифры, под которыми они указаны.

1) федеративное устройство

2) приоритет государственной формы собственности

3) государственное финансирование политических партий

4) единство экономического пространства

5) светский характер государства

Ответ: 1, 4, 5.

107. Выберите верные суждения о семейном праве в Российской Федерации и запишите цифры,

под которыми указаны соответствующие положения.

1) В правоотношениях, регулируемых семейным правом, воля одной из сторон главенствует над волей другой.

2) Основной источник семейного права – судебный прецедент.

3) Нормы семейного права регулируют личные неимущественные и имущественные отношения между супругами, родителями и детьми (усыновителями и усыновлёнными).

4) В основе семейного законодательства лежит принцип добровольности брачного союза мужчины и женщины.

5) Пример нормы семейного права: в случае расторжения брака супруги вправе сохранить общую фамилию или восстановить свои добрачные фамилии.

Ответ: 3, 4, 5.

108. Ниже приведён перечень характеристик. Все они, за исключением двух, относятся к характеристикам элитарной культуры.

1) *отсутствие ярко выраженной коммерческой направленности*; 2) *ориентация на вкусы и запросы узкого круга знатоков*; 3) *сложное для восприятия содержание*; 4) *возможность безграничного самовыражения творца*; 5) *развлекательный характер*; 6) *серийность и тиражируемость*.

Найдите две характеристики, «выпадающие» из общего ряда, и запишите в таблицу цифры, под которыми они указаны.

Ответ: 5, 6

109. Выберите верные суждения о социальных институтах и запишите цифры, под которыми они указаны.

1) Социальный институт представляет собой исторически сложившуюся организацию социальной практики.

2) Структура современного социального института, как правило, характеризуется простотой отношений.

3) Некоторые социальные институты могут выступать как агенты социализации.

4) К политическим институтам общества традиционно относят рыночную экономику и собственность.

5) Социальные институты упорядочивают, координируют индивидуальные действия людей, придают им организованный и предсказуемый характер.

Ответ: 1, 3, 5.

110. Представьте, что Вы помогаете учителю оформить презентацию к уроку обществознания по теме «Человек как результат биологической и социокультурной эволюции». Один из слайдов называется «Черты сходства человека с другими живыми существами». Что из перечисленного Вы включили бы в этот слайд? Запишите цифры, под которыми указаны эти черты.

- 1) инстинктивные реакции на воздействие среды
- 2) наличие словесной речи
- 3) забота о потомстве
- 4) осознанная постановка цели
- 5) стремление понять закономерности развития природы и общества
- 6) использование природных материалов

Ответ: 1, 3, 6.

111. Выберите верные суждения о рынке труда и безработице и запишите цифры, под которыми они указаны.

- 1) Состояние рынка труда, при котором часть активного населения принимает решение прекратить трудовую деятельность и больше не работать, называют циклической безработицей.
- 2) Спрос на труд на соответствующем рынке имеет производный характер: он зависит от спроса на товар, который производит данный работник.
- 3) Безработицей называют социально-экономическое явление, суть которого заключается в том, что часть экономически активного населения, желающая трудиться, не может найти работу.
- 4) В результате высокой безработицы происходит снижение общего уровня жизни населения.
- 5) Возникновение фрикционной безработицы всегда связано с экономическим кризисом и депрессией.

Ответ: 2, 3, 4.

112. Установите соответствие между характеристиками и типами экономических систем: к каждой позиции, данной в первом столбце, подберите соответствующую позицию из второго столбца.

ХАРАКТЕРИСТИКИ

ТИПЫ ЭКОНОМИЧЕСКИХ СИСТЕМ

- А) конкуренция товаропроизводителей
- Б) централизованное планирование
- В) принцип уравнительного распределения
- Г) свобода предпринимательства
- Д) государственная собственность на средства производства

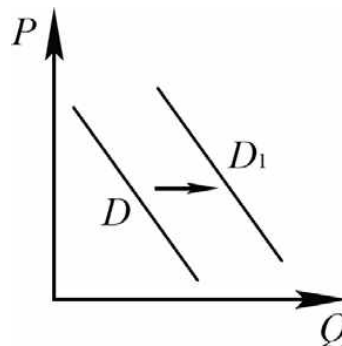
- 1) рыночная
- 2) командная (плановая)

Запишите в таблицу выбранные цифры под соответствующими буквами.

Ответ:

А	Б	В	Г	Д
1	2	2	1	2

113. На рисунке отражено изменение спроса на услуги агентств недвижимости на соответствующем рынке: линия спроса D



переместилась в новое положение – $D1$. (P – цена; Q – количество.)

Какие из перечисленных факторов могут вызвать такое изменение? Запишите **цифры**, под которыми они указаны.

- 1) рост доходов населения
- 2) предоставление гражданам субсидий на приобретение жилья
- 3) сокращение количества агентств недвижимости
- 4) рост оплаты труда агентов недвижимости
- 5) уменьшение количества продающихся квартир

Ответ: 1, 2.

114. Установите соответствие между полномочиями и субъектами государственной власти Российской Федерации, реализующими эти полномочия: к каждой позиции, данной в первом столбце, подберите соответствующую позицию из второго столбца.

ПОЛНОМОЧИЯ

**СУБЪЕКТЫ
ГОСУДАРСТВЕННОЙ ВЛАСТИ**

- А) осуществляет исполнительную власть в РФ
- Б) объявляет амнистию
- В) разрешает споры о компетенции между субъектами государственной власти РФ и субъектов РФ
- Г) осуществляет управление федеральной собственностью
- Д) принимает федеральные законы

- 1) Конституционный Суд РФ
- 2) Правительство РФ
- 3) Государственная Дума

Запишите в таблицу выбранные цифры под соответствующими буквами.

Ответ:

А	Б	В	Г	Д
2	3	1	2	3

13. Согласно Конституции Российской Федерации наша страна является федеративным государством. Выберите в приведённом списке черты федеративного государства. Запишите **цифры**, под которыми они указаны.

- 1) республиканская форма правления
- 2) распределение полномочий между центром и регионами
- 3) наличие двухпалатного парламента
- 4) признание идеологического многообразия
- 5) политический плюрализм

13 Ответ: 2, 3.

115. Выберите верные суждения о гражданском праве в Российской Федерации и запишите **цифры**, под которыми они указаны.

- 1) Субъектами гражданско-правовых отношений могут быть физические лица, юридические лица, публично-правовые образования.
- 2) Гражданское право устанавливает способы защиты имущественных и личных неимущественных прав граждан.
- 3) Имущественные права и обязанности возникают в результате приобретения собственности по основаниям, допускаемым законом.
- 4) К источникам гражданского права относят Уголовный кодекс РФ.

5) Гражданское право регулирует общественные отношения в сфере управленческой деятельности государственных органов и должностных лиц.

Ответ: 1, 2, 3.

116. Установите соответствие между действиями по охране окружающей среды и элементами правового статуса гражданина Российской Федерации: к каждой позиции, данной в первом столбце, подберите соответствующую позицию из второго столбца.

ДЕЙСТВИЯ ПО ОХРАНЕ
ОКРУЖАЮЩЕЙ СРЕДЫ

ЭЛЕМЕНТЫ ПРАВОВОГО
СТАТУСА ГРАЖДАНИНА РФ

- А) бережно относиться к природным богатствам
- Б) направлять обращения в органы местного самоуправления
- В) выдвигать предложения о проведении экологической общественной экспертизы и участвовать в её проведении
- Г) принимать участие в собраниях и митингах по вопросу окружающей среды
- Д) сохранять природу и окружающую среду

- 1) права
- 2) обязанности

Запишите в таблицу выбранные цифры под соответствующими буквами.

Ответ:

А	Б	В	Г	Д
2	1	1	1	2

117. Гражданину Российской Федерации Константину 52 года, он успешно прошёл собеседование при приёме на работу. Но работодатель отдал предпочтение другому претенденту, менее успешно прошедшему собеседование, только потому, что он моложе Константина на восемь лет. Найдите в приведённом списке позиции, соответствующие правовому контексту описанной ситуации, и запишите цифры, под которыми они указаны.

- 1) уголовное право
- 2) иск в суд
- 3) заявление в отдел полиции
- 4) дискриминация
- 5) дисциплинарный проступок
- 6) трудовое право

Ответ: 2, 4, 6.

118. Запишите слово, пропущенное в таблице.

Вид наказаний (в соответствии с Уголовным кодексом РФ)

ВИД	ХАРАКТЕРИСТИКА
Исправительные работы	Осуждённый, имеющий основное место работы, отбывает наказание по основному месту работы / осуждённый, не имеющий основного места работы, отбывает наказание в местах, определяемых органами местного самоуправления по согласованию с уголовно-исполнительными инспекциями, но в районе места жительства осуждённого

...	Денежное взыскание, назначаемое в пределах, предусмотренных Уголовным кодексом РФ
-----	---

Ответ: штраф

119. В приведённом ниже ряду найдите понятие, которое обобщает/включает все остальные представленные понятия. Запишите это словосочетание.

Унитарное предприятие, производственный кооператив, юридическое лицо, коммандитное товарищество, акционерное общество.

Ответ: юридическое лицо.

120. Выберите верные суждения о человеке и запишите цифры, под которыми они указаны.

- 1) К естественным (биологическим) потребностям человека традиционно относят потребности в общественной деятельности, общественном признании, общении с другими людьми.
- 2) Потребности человека удовлетворяются в процессе его деятельности.
- 3) Понятие «индивид» используется для характеристики человека как представителя биологического вида.
- 4) К отличиям человека от других живых существ относят наличие мышления и словесной речи.
- 5) Духовные потребности лежат в основе возникновения некоторых интересов и склонностей человека.

Ответ: 2, 3, 4, 5.

121. Государственный симфонический оркестр впервые исполнил симфонию современного композитора. Критики единодушно оценили музыкальное произведение как образец элитарной (высокой) культуры. Что позволило сделать им такой вывод? Запишите цифры, под которыми указаны признаки произведений элитарной культуры.

- 1) чрезмерная сложность формы музыкального произведения
- 2) трудность восприятия произведения неподготовленными слушателями
- 3) установка на следование образцу, который перенимается от предшествующих поколений
- 4) использование технических средств для прослушивания
- 5) развлекательный характер произведения
- 6) некоммерческий характер создания и исполнения симфонии

Ответ: 1, 2, 6.

122. Выберите верные суждения об инфляции и запишите цифры, под которыми они указаны.

- 1) Последствием инфляции может быть обесценивание сбережений, снижение уровня жизни населения.
- 2) Инфляцией называют социально-экономическое явление, связанное с преобладанием спроса на рабочую силу над её предложением.
- 3) Инфляция спроса вызвана избытком денег по отношению к количеству предложенных товаров и вызывает рост цен.
- 4) В зависимости от причин различают инфляцию спроса и инфляцию затрат (издержек).
- 5) Эмиссия денег является наиболее эффективным методом сдерживания инфляции.

Ответ: 1, 3, 4.

123. Установите соответствие между примерами и видами налогов и сборов в соответствии с Налоговым кодексом РФ: к каждой позиции, данной в первом столбце, подберите соответствующую позицию из второго столбца.

ПРИМЕРЫ

ВИДЫ НАЛОГОВ И СБОРОВ В РФ

- | | |
|-----------------------------------|-----------------|
| А) транспортный налог | 1) федеральные |
| Б) налог на имущество организаций | 2) региональные |
| В) акциз | 3) местные |
| Г) водный налог | |
| Д) торговый сбор | |

Запишите в таблицу выбранные цифры под соответствующими буквами.

Ответ:

А	Б	В	Г	Д
2	2	1	1	3

124. Аркадий Петрович, военный пенсионер, работает в частном охранном предприятии. Одну часть своих сбережений он разместил на банковском депозите, другую потратил на оформление договора страхования имущества. Аркадий Петрович также взял кредит и купил земельный участок. Что из перечисленного относится к доходам Аркадия Петровича? Запишите цифры, под которыми указаны доходы.

- 1) проценты по кредиту
- 2) заработная плата
- 3) проценты по вкладу
- 4) страховые взносы
- 5) пенсия
- 6) налог на доходы физических лиц

Ответ: 2, 3, 5

125. На рисунке отражено изменение спроса на средства защиты от укусов комаров на соответствующем рынке: линия спроса D переместилась в новое положение – D_1 . (P – цена; Q – количество.) Какие из перечисленных факторов могут вызвать такое изменение?

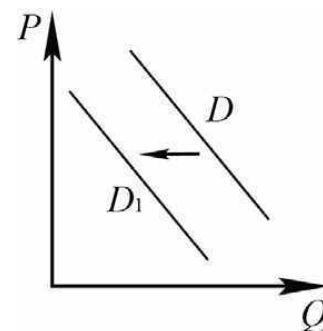
Запишите цифры, под которыми они указаны.

- 1) окончание летнего сезона
- 2) естественное сокращение популяции комаров
- 3) рост издержек производителей средств защиты от укусов комаров
- 4) выход на рынок новых производителей средств защиты от укусов комаров

комаров

5) распространение информации об аллергической реакции у большинства использующих средства защиты от укусов комаров

Ответ: 1, 2, 5.

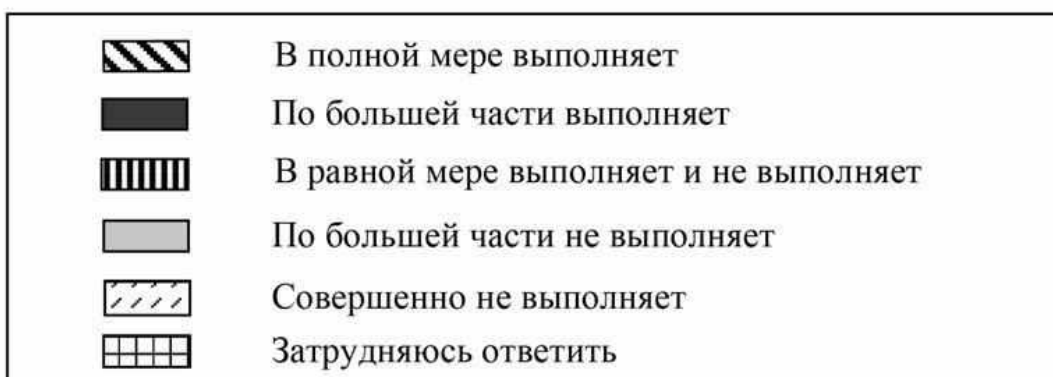
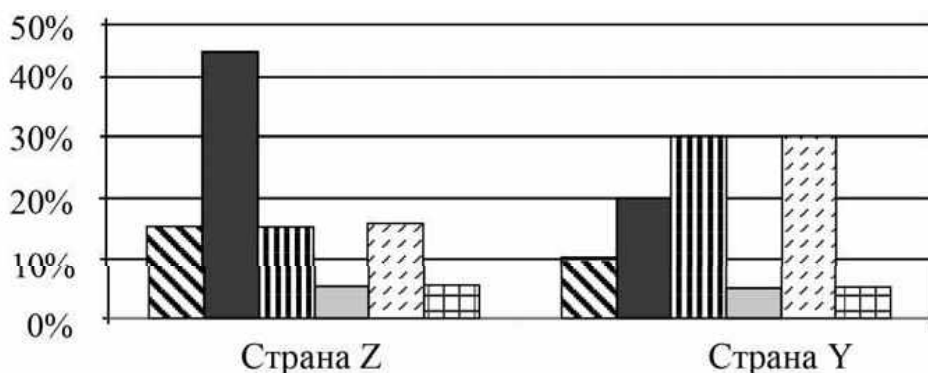


126. Выберите верные суждения об отклоняющемся поведении и запишите цифры, под которыми они указаны.

- 1) Отклоняющееся поведение подразумевает отклонение от общепринятых норм.
- 2) Отклоняющееся поведение в любых случаях пресекается государственными органами правопорядка.
- 3) Отклоняющееся поведение может быть проявлением недостатков социализации.
- 4) Отклоняющееся поведение может быть только негативным.
- 5) Отклоняющееся поведение может иметь как коллективный, так и индивидуальный характер.

Ответ: 1, 3, 5.

127. В ходе социологических опросов совершеннолетних жителей стран Z и Y им задавали вопрос: «В какой мере государство выполняет свои обязанности перед гражданами?» Полученные результаты (в % от числа опрошенных) представлены в виде диаграммы.



Найдите в приведённом списке выводы, которые можно сделать на основе диаграммы, и запишите **цифры**, под которыми они указаны.

- 1) Доля тех, кто отметил, что государство в полной мере выполняет свои обязанности перед гражданами, в стране Z больше, чем в стране Y.
- 2) Равные доли опрошенных жителей страны Z отметили, что государство в полной мере выполняет и совершенно не выполняет свои обязанности перед гражданами.
- 3) В стране Y доля отметивших, что государство по большей части не выполняет свои обязанности перед гражданами, больше доли отметивших, что государство в полной мере выполняет свои обязанности.
- 4) Доля тех, кто отметил, что государство совершенно не выполняет свои обязанности перед гражданами, в стране Z меньше, чем в стране Y.
- 5) Одинаковые доли опрошенных в обеих странах отметили, что государство в равной мере выполняет и не выполняет свои обязанности перед гражданами.

Ответ: 1, 2, 4.

128. Установите соответствие между вопросами и субъектами государственной власти Российской Федерации, к ведению которых эти вопросы относятся: к каждой позиции, данной в первом столбце, подберите соответствующую позицию из второго столбца.

ВОПРОСЫ

**СУБЪЕКТЫ
ГОСУДАРСТВЕННОЙ ВЛАСТИ РФ**

- А) судостроительство, прокуратура
- Б) правовое регулирование интеллектуальной собственности
- В) координация вопросов здравоохранения
- Г) защита исконной среды обитания и традиционного образа жизни малочисленных этнических общностей
- Д) адвокатура, нотариат

- 1) только федеральный центр
- 2) совместно федеральный центр и субъекты РФ

Запишите в таблицу выбранные цифры под соответствующими буквами.

Ответ:

А	Б	В	Г	Д
1	1	2	2	2

129. Что из перечисленного относится к конституционным обязанностям гражданина Российской Федерации? Запишите цифры, под которыми они указаны.

- 1) защита Отечества
- 2) распоряжение своими способностями к труду
- 3) забота совершеннолетних трудоспособных детей о нетрудоспособных родителях
- 4) обеспечение родителями получения детьми основного общего образования
- 5) бесплатное получение на конкурсной основе высшего образования в государственном образовательном учреждении

Ответ: 1, 3, 4.

130. Выберите верные суждения о гражданском праве в Российской Федерации. Запишите цифры, под которыми указаны соответствующие положения.

- 1) В основе взаимоотношений партнёров – имущественная самостоятельность и равенство сторон.
- 2) Гражданское право включает в себя систему правовых норм, определяющих преступность и наказуемость деяний.
- 3) Нормы гражданского права регулируют имущественные и личные неимущественные отношения.
- 4) Объекты гражданских правоотношений могут свободно отчуждаться или переходить от одного лица к другому (при наследовании, реорганизации).
- 5) К способам защиты гражданских прав, установленных Гражданским кодексом РФ, относят лишение свободы на определённый срок.

Ответ: 1, 3, 4.

131. Установите соответствие между примерами и основаниями прекращения трудового договора в Российской Федерации: к каждой позиции, данной в первом столбце, подберите соответствующую позицию из второго столбца.

ПРИМЕРЫ

ОСНОВАНИЯ ПРЕКРАЩЕНИЯ ТРУДОВОГО ДОГОВОРА В РФ

- А) Аттестационная комиссия подтвердила отсутствие у Марка Г. достаточного уровня квалификации для занимаемой должности.
- Б) Виктор П. неоднократно не исполнял без уважительных причин трудовые обязанности, имел несколько дисциплинарных взысканий.
- В) 24-летний Роман В. был направлен на альтернативную гражданскую службу.
- Г) Ирина вышла замуж за иногороднего и переехала по месту жительства мужа.
- Д) По истечению срока трудового договора Пётр М. не был переизбран на должность заведующего кафедрой

- 1) инициатива работодателя
- 2) инициатива работника
- 3) обстоятельства, не зависящие от воли сторон

философии.

Запишите в таблицу выбранные цифры под соответствующими буквами.

Ответ:

А	Б	В	Г	Д
1	1	3	2	3

132. Гражданин Российской Федерации Иван Сергеевич является собственником небольшого предприятия, оказывающего бытовые услуги населению. Он регулярно уплачивает налоги. Что из перечисленного относится к обязанностям налогоплательщика? Запишите **цифры**, под которыми они указаны.

- 1) уплачивать законно установленные налоги
- 2) требовать от налоговых органов соблюдения налоговой тайны
- 3) присутствовать при проведении выездной налоговой проверки деятельности его предприятия
- 4) вести в установленном порядке учёт своих доходов (расходов), если это предусмотрено законом

- 5) выполнять законные требования налогового органа об устранении выявленных нарушений
- 6) использовать налоговые льготы при наличии оснований и в порядке, установленном законом

Ответ: 1, 4, 5.

133. Запишите слово, пропущенное в таблице.

Деятельность, её виды

ВИДЫ ДЕЯТЕЛЬНОСТИ	ХАРАКТЕРИСТИКИ ДЕЯТЕЛЬНОСТИ
...	Преобразование реальных объектов природы и общества
Теоретическая	Выдвижение и проверка гипотез, разработка концепций

Ответ: практическая; материальная; созидательная; творческая; производственная

134. В стране Z происходит широкое внедрение компьютерной техники в различные области жизни. Какие иные признаки из перечисленных свидетельствуют о том, что страна Z развивается как постиндустриальное общество? Запишите **цифры**, под которыми они указаны.

- 1) В экономике страны Z высокий удельный вес занимает сфера услуг.
- 2) В целях регуляции социальных отношений издаются правовые акты.
- 3) Социальная мобильность затруднена.
- 4) Природные факторы оказывают влияние на развитие общества.
- 5) Информационные технологии являются важнейшим фактором производства.
- 6) Наибольшее развитие получают наукоёмкие, ресурсосберегающие отрасли производства.

Ответ: 1, 5, 6.

135. Выберите верные суждения об экономическом росте и запишите **цифры**, под которыми они указаны.

- 1) Одним из интенсивных факторов экономического роста является повышение квалификации работников предприятия.
- 2) Стабильный экономический рост возможен за счёт роста производительности труда, включая внедрение инноваций.
- 3) Экстенсивный тип экономического роста обеспечивается за счёт более рационального использования прежнего объёма ресурсов.
- 4) Экономический рост – это долгосрочная тенденция увеличения реального ВВП.

5) К интенсивным факторам экономического роста относят рост добычи полезных ископаемых.

Ответ: 1, 2, 4.

136. Установите соответствие между примерами и видами налогов и сборов согласно Налоговому кодексу РФ: к каждой позиции, данной в первом столбце, подберите соответствующую позицию из второго столбца.

ПРИМЕРЫ

ВИДЫ НАЛОГОВ И СБОРОВ В РФ

- А) торговый сбор
- Б) государственная пошлина
- В) налог на добавленную стоимость
- Г) налог на имущество организаций
- Д) транспортный налог

- 1) федеральные
- 2) региональные
- 3) местные

Запишите в таблицу выбранные цифры под соответствующими буквами.

Ответ:

А	Б	В	Г	Д
3	1	1	2	2

137. В стране Z развит аграрный сектор экономики, на рынке сельскохозяйственной продукции представлено много производителей. Какие из перечисленных признаков позволяют сделать вывод о том, что в стране Z рыночная экономика? Запишите цифры, под которыми они указаны.

- 1) доминирование интересов и прав потребителя в обеспечении качества и ассортимента товаров и услуг
- 2) формирование равновесной цены на товары и услуги в зависимости от спроса и предложения
- 3) разработка государством директивных планов производства товаров и услуг
- 4) многообразие форм собственности на средства производства
- 5) натуральный характер хозяйства
- 6) опора на традиции ведения хозяйства

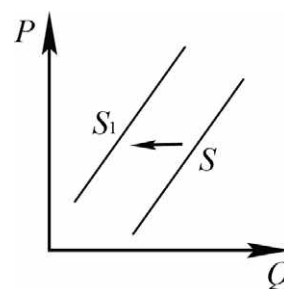
Ответ: 1, 2, 4.

138. На рисунке отражено изменение предложения шоколада на соответствующем рынке: линия предложения S переместилась в новое положение – S_1 . (P – цена; Q – количество.)

Какие из перечисленных факторов могут вызвать такое изменение? Запишите цифры, под которыми они указаны.

- 1) банкротство крупного производителя шоколадных изделий
- 2) хороший урожай какао-бобов
- 3) ожидаемый производителями рост потребления шоколада
- 4) рост налогов на производителей шоколада
- 5) удорожание транспортных расходов производителей шоколада

Ответ: 1, 4, 5.



139. Выберите верные суждения о семье и запишите цифры, под которыми они указаны.

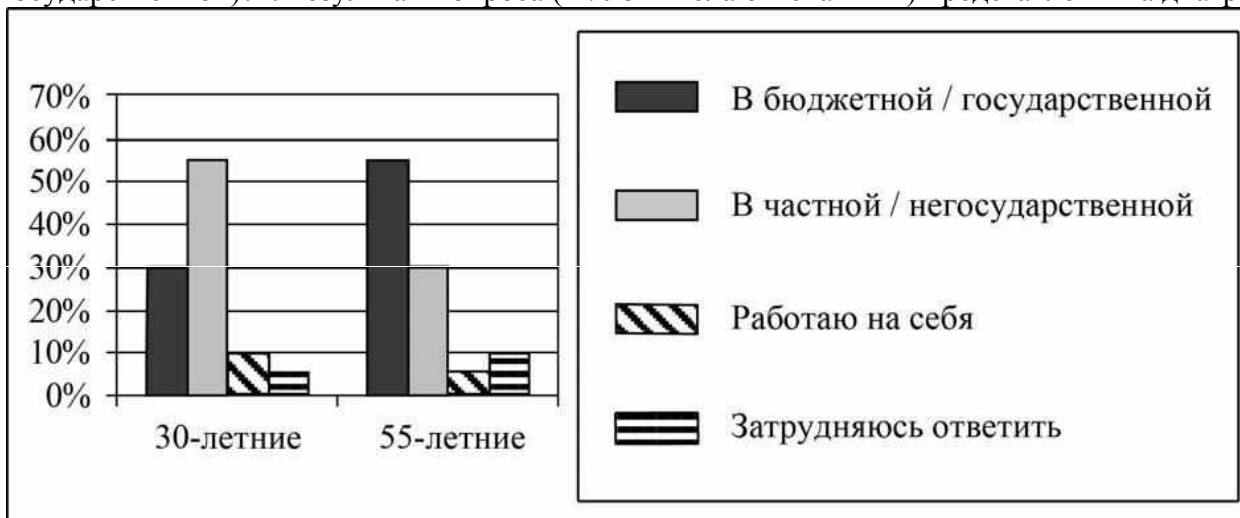
- 1) Для семьи демократического (партнёрского) типа характерно отсутствие жёсткого деления домашних обязанностей на мужские и женские.
- 2) Нуклеарные семьи характерны для традиционных обществ с натуральным типом хозяйства.
- 3) Своеобразие семьи заключается в том, что она одновременно представляет собой и общественный институт, и малую социальную группу.

4) Репродуктивная функция семьи проявляется в материальном обеспечении нетрудоспособных, в ведении домашнего хозяйства, во взаимной материальной поддержке.

5) Члены семьи связаны общностью быта, взаимной материальной и моральной ответственностью.

Ответ: 1, 3, 5.

140. В ходе социологического опроса 30-летних и 55-летних граждан страны Z им задавали вопрос: «В какой организации Вы работаете (бюджетной/государственной или частной/негосударственной)?». Результаты опроса (в % от числа отвечавших) представлены на диаграмме.



Найдите в приведённом списке выводы, которые можно сделать на основе диаграммы, и запишите цифры, под которыми они указаны.

- 1) Более половины опрошенных 55-летних работают в частной/ негосударственной организации.
- 2) Среди опрошенных 55-летних тех, кто работает в частной/негосударственной организации, больше тех, кто работает на себя.
- 3) Среди опрошенных 30-летних тех, кто работает на себя, меньше, чем тех, кто работает в бюджетной/государственной организации.
- 4) Равные доли опрошенных каждой группы работают на себя.
- 5) Доля тех, кто затруднился ответить, среди 55-летних больше, чем среди 30-летних.

Ответ: 2, 3, 5.

141. Установите соответствие между вопросами и субъектами государственной власти Российской Федерации, к ведению которых эти вопросы относятся: к каждой позиции, данной в первом столбце, подберите соответствующую позицию из второго столбца.

ВОПРОСЫ

**СУБЪЕКТЫ
ГОСУДАРСТВЕННОЙ ВЛАСТИ РФ**

- А) принятие и изменение Конституции Российской Федерации и федеральных законов, контроль за их соблюдением
- Б) кадры судебных и правоохранительных органов
- В) общие вопросы науки и культуры
- Г) федеральный бюджет
- Д) оборона и безопасность

- 1) федеральный центр
- 2) совместно федеральный центр и субъекты РФ

Запишите в таблицу выбранные цифры под соответствующими буквами.

Ответ:

А	Б	В	Г	Д
1	2	2	1	1

142. Что из перечисленного относится к личным (гражданским) правам (свободам) гражданина Российской Федерации? Запишите **цифры**, под которыми они указаны.

- 1) свобода выбора места пребывания и места жительства
- 2) сохранение культурного наследия
- 3) право на личную неприкосновенность
- 4) участие в референдуме
- 5) уплата налогов

Ответ: 1, 3.

143. Выберите верные суждения о гражданском праве в Российской Федерации и запишите **цифры**, под которыми указаны соответствующие положения.

- 1) Пример нормы гражданского права: трудовой договор может быть заключён с лицом, достигшим 16 лет.
- 2) Гражданское право регулирует имущественные и личные неимущественные отношения.
- 3) Гражданский кодекс РФ устанавливает условия и порядок вступления в брак, прекращения брака и признания его недействительным.
- 4) К числу источников гражданского права относят обычаи (обычаи делового оборота).
- 5) Вещи, включая наличные деньги, относят к объектам гражданских прав.

Ответ: 2, 4, 5.

144. Запишите слово, пропущенное в таблице.

АГЕНТ (ИНСТИТУТ) СОЦИАЛИЗАЦИИ	ХАРАКТЕРИСТИКА
Государство	Один из главных агентов вторичной социализации, способствующий формированию и развитию качеств человека как гражданина, субъекта политической жизни
...	Важнейший агент первичной социализации, в ходе которой ребёнок усваивает элементарные приёмы самообслуживания в быту, навыки общения с окружающими

Ответ: семья

145. В приведённом ниже ряду найдите понятие, которое обобщает/включает все остальные представленные понятия. Запишите это **слово**.

Народность, нация, этнос, племя, род.

Ответ: этнос.

146. Выберите верные суждения о семье и её функциях и запишите **цифры**, под которыми они указаны.

- 1) Семьи расширенного типа включают в себя три и более поколения кровных родственников.
- 2) Досуговая функция семьи проявляется в предоставлении определённого социального статуса членам семьи, в выполнении роли социального лифта.
- 3) Семья является основным агентом вторичной социализации.
- 4) Семья призвана создать условия для физического, психического, эмоционального и интеллектуального развития.
- 5) Члены семьи связаны общностью быта, взаимной материальной и моральной ответственностью.

Ответ: 1, 4, 5.

147. Установите соответствие между полномочиями и субъектами государственной власти Российской Федерации, реализующими эти полномочия: к каждой позиции, данной в первом столбце, подберите соответствующую позицию из второго столбца.

ПОЛНОМОЧИЯ

**СУБЪЕКТЫ
ГОСУДАРСТВЕННОЙ ВЛАСТИ РФ**

- | | |
|---|-------------------------|
| А) управление федеральной собственностью | 1) Президент РФ |
| Б) объявление амнистии | 2) Правительство РФ |
| В) назначение на должность Председателя Центрального банка Российской Федерации | 3) Государственная Дума |
| Г) утверждение военной доктрины | |
| Д) осуществление мер по обеспечению законности | |

Запишите в таблицу выбранные цифры под соответствующими буквами.

Ответ:

А	Б	В	Г	Д
2	3	3	1	2

148. Конституция Российской Федерации устанавливает основы конституционного строя.

Какие из перечисленных позиций относятся к основам конституционного строя Российской Федерации? Запишите **цифры**, под которыми они указаны.

- 1) правовое государство
- 2) приоритет государственной собственности
- 3) светское государство
- 4) социальное государство
- 5) унитарное государство

Ответ: 1, 3, 4.

149. Запишите слово, пропущенное в таблице.

Многообразие культур в современном обществе

ВИДЫ КУЛЬТУРЫ	ХАРАКТЕРИСТИКИ
Элитарная культура	Культура привилегированных групп общества; её черты – закрытость, аристократизм и ценностно-смысловая самодостаточность
... культура	Традиционная культура, включающая культурные достижения разных эпох, создаваемая, как правило, анонимными авторами

Ответ: народная

150. В приведённом ниже ряду найдите понятие, которое является обобщающим для всех остальных представленных понятий. Запишите это **слово**.

Труд, учение, общение, игра, деятельность.

Ответ: деятельность.

151. Ниже приведён перечень признаков. Все они, за исключением двух, относятся к признакам любого государства.

1) территория; 2) суверенитет; 3) публичная власть; 4) федерация; 5) право взимания налогов с граждан и фирм; 6) реализация принципа разделения властей.

Найдите два признака, «выпадающих» из общего ряда, и запишите в таблицу цифры, под которыми они указаны.

Ответ: 4, 6

152. Установите соответствие между примерами и видами налогов и сборов согласно Налоговому кодексу РФ: к каждой позиции, данной в первом столбце, подберите соответствующую позицию из второго столбца.

ПРИМЕРЫ

ВИДЫ НАЛОГОВ И СБОРОВ В РФ

- | | |
|--|-----------------|
| А) торговый сбор | 1) федеральные |
| Б) государственная пошлина | 2) региональные |
| В) налог на добычу полезных ископаемых | 3) местные |
| Г) земельный налог | |
| Д) транспортный налог | |

Запишите в таблицу выбранные цифры под соответствующими буквами.

Ответ:

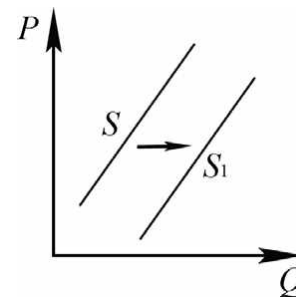
А	Б	В	Г	Д
3	1	1	3	2

153. Офис финансовой организации N расположен в пригороде столицы государства. По каким признакам можно установить, что N – центральный банк? Запишите цифры, под которыми указаны эти признаки.

- 1) Организация хранит золотовалютные резервы страны.
- 2) Организация формирует инвестиционные портфели фирм.
- 3) Организация обслуживает расчёты фирм.
- 4) Организация осуществляет переводы средств физических лиц.
- 5) Организация устанавливает ключевую (учётную) ставку процента.
- 6) Организация осуществляет эмиссию денег.

Ответ: 1, 5, 6.

154. На рисунке отражено изменение предложения молочных продуктов на соответствующем рынке: линия предложения S переместилась в новое положение – S_1 . (P – цена; Q – количество.). Какие из перечисленных факторов могут вызвать такое изменение? Запишите цифры, под которыми они указаны.



- 1) уменьшение стоимости кормов для коров
- 2) строительство новых заводов молочной продукции
- 3) банкротство нескольких молочных ферм
- 4) повышение цен на энергоносители
- 5) использование новых технологий переработки молока

Ответ: 1, 2, 5

155. Выберите верные суждения о социальных группах и их видах и запишите цифры, под которыми они указаны.

- 1) Демографические группы выделяют по этносоциальному составу.
- 2) В формальной группе межличностные взаимодействия, как правило, основаны на взаимной симпатии, общем интересе или привычке.

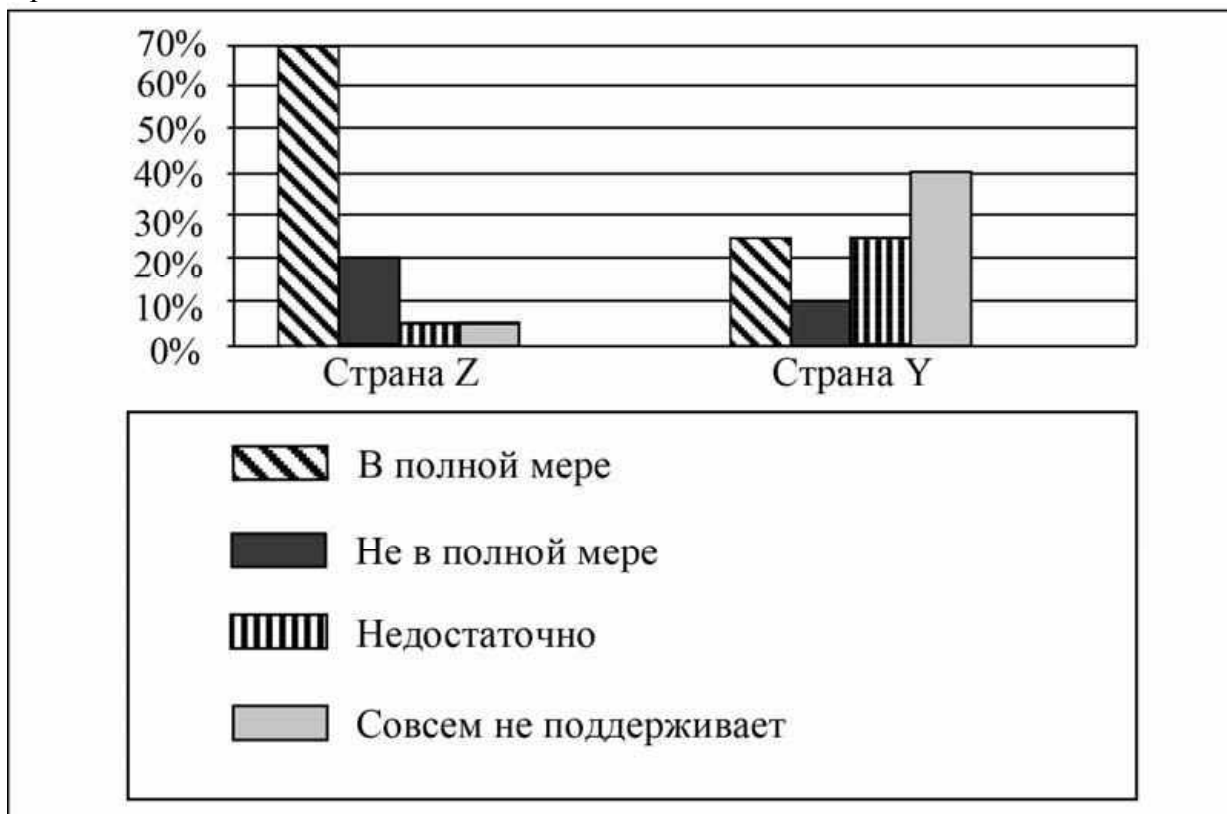
3) Принадлежность к различным социальным группам определяет положение человека в обществе.

4) Социальные группы – устойчивые совокупности людей, которые имеют отличные, только им присущие признаки (социальное положение, интересы, ценностные ориентации).

5) Группы и организации оказывают влияние на поведение человека.

Ответ: 3, 4, 5.

156. В ходе социологических опросов совершеннолетних граждан стран Z и Y им был задан вопрос: «В какой мере, по Вашему мнению, государство сегодня поддерживает научно-техническую деятельность?». Результаты опросов (в % от числа отвечавших) приведены на диаграмме.



Найдите в приведённом списке выводы, которые можно сделать на основе диаграммы, и запишите **цифры**, под которыми они указаны.

1) Равные доли опрошенных в обеих странах считают, что государство недостаточно поддерживает научно-техническую деятельность.

2) Доля тех, кто считает, что государство не в полной мере поддерживает научно-техническую деятельность, в стране Y меньше доли тех, кто считает, что государство недостаточно её поддерживает.

3) Доля тех, кто считает, что государство в полной мере поддерживает научно-техническую деятельность, в стране Z меньше, чем в стране Y.

4) Равные доли опрошенных в стране Y считают, что государство в полной мере поддерживает научно-техническую деятельность и недостаточно её поддерживает.

5) Наибольшая доля опрошенных в стране Z считает, что государство совсем не поддерживает научно-техническую деятельность.

Ответ: 2, 4.

157. Установите соответствие между полномочиями и субъектами государственной власти Российской Федерации, реализующими эти полномочия: к каждой позиции, данной в первом столбце, подберите соответствующую позицию из второго столбца.

ПОЛНОМОЧИЯ

- А) рассмотрение дел о соответствии нормативных актов закону, имеющему высшую юридическую силу
- Б) управление федеральной собственностью
- В) назначение на должность Председателя Центрального банка РФ
- Г) разработка федерального бюджета
- Д) принятие федеральных законов

СУБЪЕКТЫ ГОСУДАРСТВЕННОЙ ВЛАСТИ РФ

- 1) Государственная Дума
- 2) Правительство РФ
- 3) Конституционный Суд РФ

Запишите в таблицу выбранные цифры под соответствующими буквами.

Ответ:

А	Б	В	Г	Д
3	2	1	2	1

158. Что из перечисленного относится к конституционным обязанностям гражданина Российской Федерации? Запишите **цифры**, под которыми они указаны.

- 1) забота совершеннолетних трудоспособных детей о нетрудоспособных родителях
- 2) занятие предпринимательской деятельностью
- 3) обращение в органы государственной власти
- 4) защита Отечества
- 5) выражение своих мнений и убеждений

Ответ: 1, 4.

159. Запишите слово, пропущенное в таблице.

Многообразие культур в современном обществе

ВИДЫ КУЛЬТУРЫ	ХАРАКТЕРИСТИКИ
Народная культура	Традиционная культура, включающая культурные пласты разных эпох, субъектом которой является коллективная личность
... культура	Высокая культура привилегированных групп общества; её черты – закрытость, аристократизм и ценностно-смысловая самодостаточность

Ответ: элитарная

160. В приведённом ниже ряду найдите понятие, которое обобщает/включает все остальные представленные понятия. Запишите это **слово (словосочетание)**.

Прибыль, доход, рента, процент по вкладу, заработная плата.

Ответ: доход.

161. Ниже приведён перечень терминов. Все они, за исключением двух, могут быть использованы для характеристики понятия «общественный регресс».

- 1) движение; 2) изменение; 3) переход от менее совершенного к более совершенному; 4) усложнение структуры общества; 5) упадок; 6) деградация.

Найдите два термина, «выпадающих» из общего ряда, и запишите в таблицу цифры, под которыми они указаны.

Ответ: 3, 4

162. Выберите верные суждения об обществе и запишите цифры, под которыми они указаны.

- 1) Общество – целостная самоорганизующаяся система взаимоотношений между людьми.
- 2) В структуре общества выделяют экономическую, политическую, социальную и духовную сферы.
- 3) Социальные институты организуют удовлетворение определённых потребностей общества и человека.
- 4) Динамичность социальных институтов проявляется в их обособленности от природной среды.
- 5) Социальным регрессом называют направление развития от низших и простых форм общественной организации к более высоким и сложным.

Ответ: 1, 2, 3.

163. Алине 25 лет. Найдите в приведённом списке её черты (качества), имеющие социальный характер. Запишите цифры, под которыми они указаны.

- 1) Рост Алины – 164 см.
- 2) У Алины, как и у её мамы, абсолютный музыкальный слух.
- 3) У Алины от природы светлые волосы и голубые глаза.
- 4) Алина – ответственный работник.
- 5) Алина интересуется живописью.
- 6) Алина любит водить автомобиль.

Ответ: 4, 5, 6.

164. Выберите верные суждения о валовом внутреннем продукте (ВВП) и запишите цифры, под которыми они указаны.

- 1) Стабильный рост ВВП свидетельствует о развитии экономики и улучшении благосостояния её граждан.
- 2) ВВП – это рыночная стоимость всех конечных товаров и услуг, произведённых в стране на её территории за год.
- 3) ВВП рассчитывается только на душу населения.
- 4) Экономисты различают реальный ВВП и номинальный ВВП.
- 5) Золотовалютные резервы влияют на объём ВВП.

Ответ: 1, 2, 4.

165. Установите соответствие между характеристиками и типами экономических систем: к каждой позиции, данной в первом столбце, подберите соответствующую позицию из второго столбца.

ХАРАКТЕРИСТИКИ

ТИПЫ ЭКОНОМИЧЕСКИХ СИСТЕМ

- А) централизованное планирование
- Б) директивное ценообразование
- В) конкуренция производителей товаров и услуг
- Г) свобода предпринимательства
- Д) преобладание форм государственной собственности

- 1) рыночная
- 2) командная (плановая)

Запишите в таблицу выбранные цифры под соответствующими буквами.

Ответ:

А	Б	В	Г	Д
2	2	1	1	2

166. Представьте, что Вы помогаете учителю оформить презентацию к уроку обществознания по теме «Налоговая система в РФ». Один из слайдов называется «Федеральные налоги и сборы». Что из перечисленного Вы включили бы в этот слайд? Запишите цифры, под которыми указаны федеральные налоги и сборы.

- 1) налог на доходы физических лиц
- 2) транспортный налог
- 3) налог на имущество организаций
- 4) водный налог
- 5) земельный налог
- 6) акциз

Ответ: 1, 4, 6.

167. Выберите верные суждения о формах (областях) духовной культуры и запишите цифры, под которыми они указаны.

- 1) Мораль, в отличие от других форм (областей) духовной культуры, объясняет события и явления окружающего мира.
- 2) Наука, в отличие от других форм (областей) духовной культуры, воздействует на эмоциональную сферу человека.
- 3) Искусство помогает привлечь внимание общества к социальным и нравственным проблемам.
- 4) Один из признаков религиозного сознания – убеждение в реальном существовании сверхъестественного, его влиянии на жизнь человека и общества.
- 5) Наука призвана познать и объяснить устройство мира и законы его развития.

Ответ: 3, 4, 5.

168. В стране Z активно развиваются наукоёмкие, ресурсосберегающие отрасли производства. Какие иные признаки из перечисленных свидетельствуют о том, что страна Z развивается как постиндустриальное общество? Запишите цифры, под которыми они указаны.

- 1) активное внедрение компьютерной техники в различные области жизни
- 2) возникновение массовой культуры
- 3) отсутствие условий для социальной мобильности
- 4) влияние природных факторов на развитие общества
- 5) развитие информационных технологий
- 6) необходимость непрерывного образования и повышения квалификации

Ответ: 1, 5, 6.

169. Выберите верные суждения о роли государства в экономике и запишите цифры, под которыми они указаны.

- 1) При проведении антикризисной политики государство может изменить государственные расходы и уменьшить ставку налогообложения.
- 2) В рыночной экономике государство выполняет функцию организации производства общественных благ.
- 3) Государство проводит экономическую политику, направленную на сокращение большого разрыва в доходах разных слоёв населения за счёт частичного перераспределения их доходов.
- 4) Государство в рыночной экономике осуществляет централизованное планирование.
- 5) В экономике любого типа государство устанавливает цены на все товары и услуги.

Ответ: 1, 2, 3.

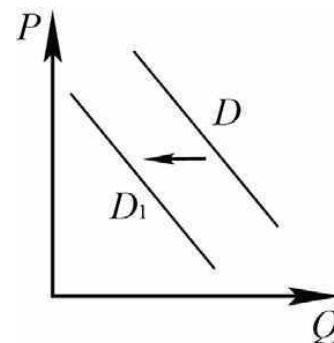
170. Арина работает менеджером среднего звена. Одну часть своих сбережений она разместила на банковском депозите, другую потратила на приобретение акций различных компаний. Арина взяла кредит на покупку автомобиля. Что из перечисленного относится к доходам Арины? Запишите цифры, под которыми они указаны.

- 1) проценты по кредиту

- 2) заработная плата
- 3) проценты по вкладу
- 4) дивиденды
- 5) транспортный налог
- 6) коммунальные платежи

Ответ: 2, 3, 4

171. На рисунке отражено изменение спроса на новый шампунь для волос на соответствующем рынке: линия спроса D переместилась в новое положение – D_1 . (P – цена; Q – количество.). Какие из перечисленных факторов могут вызвать такое изменение? Запишите **цифры**, под которыми они указаны.



- 1) плохие отзывы покупателей
- 2) появление информации в Интернете о вреде для здоровья некоторых ингредиентов нового шампуня для волос
- 3) уменьшение числа покупателей данного товара
- 4) уменьшение количества продавцов шампуней для волос
- 5) снижение расходов производителей шампуней для волос

Ответ: 1, 2, 3.

172. Выберите верные суждения о социальных нормах и запишите **цифры**, под которыми они указаны.

- 1) Социальные нормы – установленные в обществе правила поведения, регулирующие отношения между людьми, общественную жизнь.
- 2) Социальные нормы являются одним из элементов социального контроля.
- 3) От других видов социальных норм обычай отличается тем, что в них всегда выражаются представления людей о хорошем и плохом, о добре и зле.
- 4) Любая организация может устанавливать нормы права.
- 5) Социальные нормы призваны способствовать интеграции индивида в социум.

Ответ: 1, 2, 5.

173. Что из перечисленного относится к политическим правам (свободам) гражданина Российской Федерации? Запишите **цифры**, под которыми они указаны.

- 1) проведение собраний, митингов и демонстраций
- 2) владение, пользование и распоряжение имуществом
- 3) уплата законно установленных налогов и сборов
- 4) защита Отечества
- 5) обращение в государственные органы

Ответ: 1, 5.

174. Выберите верные суждения о семейном праве в Российской Федерации и запишите **цифры**, под которыми указаны соответствующие положения.

- 1) К видам наказания за нарушения норм семейного права относят лишение свободы на определённый срок.
- 2) Нормы семейного права устанавливают условия и порядок вступления в брак, прекращения брака и признания его недействительным.
- 3) Один из принципов семейного права – обеспечение приоритетной защиты прав и интересов несовершеннолетних и нетрудоспособных членов семьи.
- 4) Пример нормы семейного права: ребёнок имеет право на общение с обоими родителями, бабушкой, бабушкой, братьями, сёстрами и другими родственниками.
- 5) Нормы семейного права определяют, какие деяния являются преступлениями против несовершеннолетнего, и устанавливают наказание за их совершение.

Ответ: 2, 3, 4.

175. Ниже приведён перечень терминов. Все они, за исключением двух, относятся к понятию «форма правления».

1) президентская республика; 2) конституционная монархия; 3) абсолютная монархия; 4) федерация; 5) унитарное государство; 6) смешанная республика.

Найдите два термина, «выпадающих» из общего ряда, и запишите в таблицу цифры, под которыми они указаны.

Ответ: 4, 5

176. Экономика страны Z основана на крупном машинном производстве, в ней доминирует тяжёлая промышленность. Какие из перечисленных признаков позволяют сделать вывод о том, что в стране Z рыночная экономика? Запишите **цифры**, под которыми они указаны.

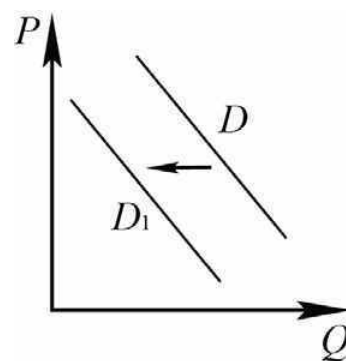
- 1) конкуренция производителей
- 2) свободное ценообразование
- 3) гарантия свободы частной хозяйственной инициативы
- 4) необходимость решать проблему ограниченности ресурсов
- 5) плановое развитие экономики
- 6) стабильность доходов населения

Ответ: 1, 2, 3.

177. На рисунке отражено изменение спроса на школьные канцелярские товары на соответствующем рынке: линия спроса D переместилась в новое положение – D_1 . (P – цена; Q – количество.). Какие из перечисленных факторов могут вызвать такое изменение? Запишите **цифры**, под которыми они указаны.

- 1) завершение учебного года
- 2) увеличение количества производителей канцелярских товаров
- 3) уменьшение издержек производства
- 4) активное использование электронных гаджетов в школе
- 5) уменьшение в структуре населения доли школьников

Ответ: 1, 4, 5.



178. Выберите верные суждения о международных отношениях и запишите **цифры**, под которыми они указаны.

- 1) Любые международные отношения законодательно регламентированы.
- 2) Одним из способов предотвращения международных конфликтов в демократическом обществе является соблюдение прав и свобод каждой народности и нации.
- 3) Этносоциальный конфликт характеризуется состоянием взаимных претензий, противостоянием племён, народов и наций друг другу.
- 4) Одной из причин этносоциальных конфликтов является существующее между этносами неравенство в уровне жизни, различное представительство в престижных профессиях, социальных слоях, органах власти.
- 5) Толерантность представляет собой конфликт между представителями разных наций и народностей.

Ответ: 2, 3, 4.

179. Установите соответствие между полномочиями и субъектами государственной власти Российской Федерации, реализующими эти полномочия: к каждой позиции, данной в первом столбце, подберите соответствующую позицию из второго столбца.

ПОЛНОМОЧИЯ

СУБЪЕКТЫ

ГОСУДАРСТВЕННОЙ ВЛАСТИ РФ

- А) утверждение указа Президента России о введении чрезвычайного положения
Б) содействие развитию

- 1) Государственная Дума
- 2) Совет Федерации
- 3) Правительство РФ

- предпринимательства и частной инициативы
- В) объявление амнистии
- Г) обеспечение проведения в Российской Федерации единой финансовой политики
- Д) разработка федерального бюджета

Запишите в таблицу выбранные цифры под соответствующими буквами.

Ответ:

А	Б	В	Г	Д
2	3	1	3	3

180. В приведённом ниже ряду найдите понятие, которое обобщает/включает все остальные представленные понятия. Запишите это **слово (словосочетание)**.

История, искусствоведение, педагогика, наука, социальная психология.

Ответ: наука.

181. Ниже приведён перечень терминов. Все они, за исключением двух, используются для характеристики формы государственного (территориального) устройства.

- 1) демократия; 2) плюрализм; 3) федерация; 4) унитарное государство; 5) автономия; 6) конфедерация.

Найдите два термина, «выпадающих» из общего ряда, и запишите в таблицу цифры, под которыми они указаны.

Ответ: 1, 2

182. Выберите верные суждения о человеке и запишите **цифры**, под которыми они указаны.

- 1) К социальным потребностям человека традиционно относят потребности в общественной деятельности, общественном признании, общении с другими людьми.
- 2) Потребности человека удовлетворяются в процессе его деятельности.
- 3) Понятие «индивид» используется для характеристики человека как представителя биологического вида.
- 4) К отличиям человека от других живых существ относят наличие инстинктов.
- 5) Духовные потребности лежат в основе возникновения некоторых интересов и склонностей человека.

Ответ: 1, 2, 3, 5.

183. В стране Z происходит широкое внедрение компьютерной техники в различные области жизни. Какие иные признаки из перечисленных свидетельствуют о том, что страна Z развивается как постиндустриальное общество? Запишите **цифры**, под которыми они указаны.

- 1) В экономике страны Z высокий удельный вес занимает сфера услуг.
- 2) В целях регуляции социальных отношений издаются правовые акты.
- 3) Социальная мобильность затруднена.
- 4) Природные факторы оказывают влияние на развитие общества.
- 5) Информационные технологии являются важнейшим фактором производства.
- 6) Наибольшее развитие получают наукоёмкие, ресурсосберегающие отрасли производства.

Ответ: 1, 5, 6.

184. Установите соответствие между характеристиками и типами экономических систем: к каждой позиции, данной в первом столбце, подберите соответствующую позицию из второго столбца.

ХАРАКТЕРИСТИКИ

ТИПЫ ЭКОНОМИЧЕСКИХ СИСТЕМ

А) преобладание (господство)

1) командная (плановая)

- государственной собственности
- Б) свободное ценообразование
- В) контроль государства за производством и распределением
- Г) централизованное планирование производства
- Д) конкуренция производителей

2) рыночная

Запишите в таблицу выбранные цифры под соответствующими буквами.

Ответ:

А	Б	В	Г	Д
1	2	1	1	2

185. Иоланта работает менеджером среднего звена. Часть своих сбережений она разместила на банковском депозите. Комнату в своей квартире она сдала внаём через агентство недвижимости. Иоланта взяла кредит на покупку автомобиля. Что из перечисленного относится к доходам Иоланты? Запишите цифры, под которыми они указаны.

- 1) коммунальные платежи
- 2) заработная плата
- 3) арендная плата за сдачу внаём комнаты
- 4) транспортный налог
- 5) проценты по кредиту
- 6) проценты по вкладу

Ответ: 2, 3, 6.

186. Установите соответствие между полномочиями и субъектами государственной власти Российской Федерации, реализующими эти полномочия: к каждой позиции, данной в первом столбце, подберите соответствующую позицию из второго столбца.

ПОЛНОМОЧИЯ

- А) осуществляет исполнительную власть в РФ
- Б) объявляет амнистию
- В) разрешает споры о компетенции между субъектами государственной власти РФ и субъектов РФ
- Г) осуществляет управление федеральной собственностью
- Д) принимает федеральные законы

СУБЪЕКТЫ

ГОСУДАРСТВЕННОЙ ВЛАСТИ

- 1) Конституционный Суд РФ
- 2) Правительство РФ
- 3) Государственная Дума

Запишите в таблицу выбранные цифры под соответствующими буквами.

Ответ:

А	Б	В	Г	Д
2	3	1	2	3

187. Согласно Конституции Российской Федерации наша страна является федеративным государством. Выберите в приведённом списке черты федеративного государства. Запишите цифры, под которыми они указаны.

- 1) республиканская форма правления
- 2) распределение полномочий между центром и регионами
- 3) наличие двухпалатного парламента
- 4) признание идеологического многообразия
- 5) политический плюрализм

Ответ: 2, 3.

188. Выберите верные суждения о правоохранительных органах в Российской Федерации и запишите **цифры**, под которыми они указаны.

- 1) Одна из функций правоохранительных органов – укрепление законности и правопорядка.
- 2) Правоохранительные органы могут принимать соответствующие законы.
- 3) На полицию возложены задачи выявления и расследования преступлений.
- 4) Адвокаты оказывают юридическую помощь и осуществляют защиту по уголовным делам.
- 5) Единая централизованная система федеральных органов, осуществляющих надзор за точным и единообразным исполнением законов, называется прокуратура.

Ответ: 1, 3, 4, 5.

189. Запишите слово, пропущенное в таблице.

Вид наказаний (в соответствии с Уголовным кодексом РФ)

ВИД	ХАРАКТЕРИСТИКА
Штраф	Денежное взыскание, назначаемое в пределах, предусмотренных Уголовным кодексом РФ
...	Содержание осуждённого в условиях строгой изоляции от общества, устанавливается на срок от одного до шести месяцев

Ответ: арест

190. В приведённом ниже ряду найдите понятие, которое обобщает/включает все остальные представленные понятия. Запишите это **слово (сочетание слов)**.

Школьный класс, семья, социальная группа, трудовой коллектив, члены садового товарищества.

Ответ: социальная группа.

191. Ниже приведён перечень терминов. Все они, за исключением двух, относятся к понятию «общественный регресс».

- 1) *деградация*;
- 2) *изменение*;
- 3) *спад*;
- 4) *совершенствование*;
- 5) *подъём*;
- 6) *упадок культуры*.

Найдите два термина, «выпадающих» из общего ряда, и запишите в таблицу цифры, под которыми они указаны.

Ответ: 4, 5

192. Выберите верные суждения о человеке и запишите **цифры**, под которыми они указаны.

- 1) К естественным (биологическим) потребностям человека традиционно относят потребности в общественной деятельности, общественном признании, общении с другими людьми.
- 2) Потребности человека удовлетворяются в процессе его деятельности.
- 3) Понятие «индивид» используется для характеристики человека как представителя биологического вида.
- 4) К отличиям человека от других живых существ относят наличие мышления и словесной речи.
- 5) Духовные потребности лежат в основе возникновения некоторых интересов и склонностей человека.

Ответ: 2, 3, 4, 5.

193. В стране Z господствует натуральное хозяйство. Какие иные признаки из перечисленных свидетельствуют о том, что страна Z развивается как традиционное общество? Запишите цифры, под которыми они указаны.

- 1) преобладание устной информации над письменной
- 2) быстрый рост городского населения
- 3) преобладание экстенсивных технологий и ручных орудий труда
- 4) сословная структура общества
- 5) широкое распространение научных знаний
- 6) интенсивное развитие инфраструктуры

Ответ: 1, 3, 4.

194. Выберите верные суждения о налогах и системах налогообложения и запишите цифры, под которыми они указаны.

- 1) При пропорциональной системе налогообложения ставки увеличиваются при возрастании объекта налога.
- 2) Налоги – обязательные платежи физических и юридических лиц государству в порядке и на условиях, определённых законодательством.
- 3) Налоги бывают прямые и косвенные.
- 4) Фискальная функция налогов проявляется в наполнении государственного бюджета.
- 5) К прямым налогам относят налог на добавленную стоимость.

Ответ: 2, 3, 4.

195. Выберите верные суждения о социальной стратификации и социальной мобильности и запишите цифры, под которыми они указаны.

- 1) Личные качества человека выступают критерием социальной стратификации современного общества.
- 2) Одним из критериев социальной стратификации общества выступает объём власти.
- 3) Социологи различают индивидуальную и групповую (коллективную) мобильность.
- 4) Горизонтальная мобильность предполагает переход в социальную группу, находящуюся на другой ступени социальной иерархии.
- 5) Один из критериев дифференциации социальных групп – уровень доходов.

Ответ: 2, 3, 5.

196. Семья Мироновых состоит из шести человек: Степана, Дарьи, двух их сыновей и родителей Дарьи. Дарья ведёт домашнее хозяйство; Степан и его тесть работают по найму; мать Дарьи – предприниматель, она владеет туристической фирмой; дети учатся в школе. Средства расходуются на приобретение еды, одежды, оплату транспортных и коммунальных услуг, обслуживание двух личных автомобилей. 1) К какому типу (в зависимости от структуры) можно отнести эту семью? 2) Какая информация Вам необходима для того, чтобы установить: является семья Мироновых патриархальной или демократической? (Сформулируйте два вопроса, необходимых для получения данной информации.) 3) Какую функцию семьи иллюстрирует приведённый в задании пример деятельности семьи Мироновых? 4) Каковы источники доходов семейного бюджета семьи Мироновых (назовите два источника)?

ответ на первый вопрос: расширенная/многопоколенная; *2) ответ на второй вопрос,* например: – как распределяются домашние обязанности? – как принимаются решения в семье? (Ответ на второй вопрос засчитывается только при наличии двух или более сформулированных вопросов, соответствующих требованию задания.) *3) ответ на третий вопрос:* хозяйственно-экономическая (или экономическая, или хозяйственная, или бытовая, или хозяйственно-бытовая); *4) ответ на четвёртый вопрос* – два источника дохода: – заработная плата; – прибыль от туристической фирмы.

197. Прочитайте текст и выполните задания .

Занятость бывает полной и неполной. Полная занятость означает полное обеспечение трудоспособного населения рабочими местами. Неполная занятость подразумевает возможность

устроиться на работу на неполный рабочий день, на сезонный период. Неполная занятость служит источником безработицы. Безработица может быть добровольной и существовать при наличии свободных рабочих мест, когда работника не устраивает уровень заработной платы либо сам характер труда. Безработица может быть и вынужденной. Фрикционная безработица связана с различными перемещениями работников (переезд на новое место жительства, получение новой квалификации, учёба, уход за детьми и т.д.). По своему содержанию фрикционная безработица может быть отнесена к добровольной. В принципе она неустранима в демократическом государстве, где нет принудительного труда и режима прописки. Структурная безработица тесно связана с особенностями развития регионов и отраслей. При этом избыток труда в одних секторах экономики или регионах может сопровождаться его нехваткой в других. Циклическая безработица определяется изменением экономической конъюнктуры. Она снижается во время циклических подъёмов и увеличивается в периоды кризисов. В результате безработицы общество несёт колоссальные социальноэкономические потери. Когда люди остаются без работы, это означает, что производство сокращается по сравнению с имеющимися реальными возможностями. Вследствие этого усложняется решение проблемы повышения благосостояния населения. Социальные издержки безработицы связаны с утратой профессионального и человеческого общения, причастности к общему делу. Социально ориентированная рыночная экономика, при которой государство активно поддерживает развитие конкуренции, способствует ослаблению конфликтов между наёмными работниками и работодателями, реализует обширные программы поддержки социально незащищённых слоёв населения, позволяет избежать социально-политических катаклизмов. (По Н.И. Саталкиной, Г.И. Тереховой, Ю.О. Тереховой)

Какая характеристика полной занятости приведена в тексте? Какие конкретные жизненные обстоятельства, по мнению авторов, могут привести к фрикционной безработице? (Укажите любые три таких обстоятельства из текста.) С чем авторы связывают проявление социальных издержек безработицы? В тексте упомянуты ключевые явления современного общества. Используя обществоведческие знания, – укажите не менее трёх основных признаков понятия «конкуренция»; – объясните связь безработицы и конкуренции. (Объяснение может быть дано в одном или нескольких распространённых предложениях.) Используя обществоведческие знания и факты общественной жизни, приведите три примера, иллюстрирующих неполную занятость работников, вызванную разными причинами. (Каждый пример должен быть сформулирован развёрнуто. Примеры не должны дублировать друг друга по содержанию.) Одним из проявлений роли государства в социально ориентированной рыночной экономике авторы называют реализацию обширных программ поддержки социально незащищённых слоёв населения. Используя обществоведческие знания, приведите три аргумента, подтверждающих необходимость принятия подобных мер со стороны государства. (Каждый аргумент должен быть сформулирован как распространённое предложение.)

ответ на первый вопрос, например: полное обеспечение трудоспособного населения рабочими местами; 2) ответ на второй вопрос, например: переезд на новое место жительства, получение новой квалификации, учёба; 3) ответ на третий вопрос, например: с утратой профессионального и человеческого общения, причастности к общему делу

основные признаки понятия «конкуренция», например: – соперничество между участниками рыночного хозяйства; - предполагает борьбу за лучшие условия производства и реализации товаров и услуг. (Могут быть приведены другие признаки при обязательном указании двух первых признаков из перечня.) Данный элемент ответа засчитывается только при указании в данной или близкой по смыслу формулировке трёх или более признаков, в том числе из приведённого перечня, и при отсутствии неверных позиций. 2) объяснение с опорой на положения текста, например: участники рынка не выдержав конкурентной борьбы оказываются безработными.

Примеры, иллюстрирующие неполную занятость работников, вызванную разными причинами: 1) Пётр Михайлович - студент, он устроился на неполный рабочий день в кафе официантом, так как это не мешает образовательному процессу и приносит ему доход. 2) В связи с экономическим кризисом в государстве X некоторые предприятия перевели сотрудников на неполный рабочий день, чтобы не проводить сокращение персонала; 3) Гражданин Иванов выходит на работу

промоутером несколько раз в месяц, когда работодателю необходимо проводить дополнительную рекламную кампанию для привлечения клиентов.

государство, поддерживая социально незащищенные слои населения, предотвращает развитие преступности, так как в трудном социальном положении люди могут пойти на совершение преступлений, чтобы прокормить себя; 2) государству необходимо поддерживать пенсионеров, которым трудно найти работу в связи со зрелым возрастом и ограниченными возможностями здоровья; 3) государство обеспечивает нормальную жизнедеятельность инвалидов, которые не могут работать и самостоятельно зарабатывать денежные средства.

198. Рассмотрите фотографию. Какая форма (область) культуры может быть проиллюстрирована с помощью данной фотографии? Используя обществоведческие знания, факты общественной жизни и личный социальный опыт, назовите две функции данной формы (области) духовной культуры и поясните значимость каждой из них в современном обществе.



Ответ:

Духовная культура (образование).

Функции: обучающая (обеспечивает процесс овладения учащимся знаниями, умениями в стенах учебных заведений. Она является трендом для современного общества. Это карьерный рост, высокая зарплата, это ключ к насыщенной и яркой жизни); культурная (передача новым поколениям накопленного опыта знаний. Это важная функция, для развития нового поколения, для усовершенствования того, что было известно предыдущему поколению).

199. Рассмотрите фотографию. Какая форма (область) культуры (кроме искусства) может быть проиллюстрирована с помощью данной фотографии? Используя обществоведческие знания, факты общественной жизни и личный социальный опыт, назовите две функции данной формы (области) культуры



Ответ:.

Духовная (религия).

Функции: мировоззренческая (определенный взгляд на мир, сущность человека и его место в мире); коммуникативная (способна избавить человека от одиночества); психологическая (снимает тяжелое психологическое напряжение)

200. Для иллюстрации какой конституционной обязанности гражданина РФ может быть использовано данное изображение? Используя обществоведческие знания, факты общественной жизни и личный социальный опыт, приведите два примера воздействия человека на природу и два примера, иллюстрирующих воздействие природы на человека.



Ответ:

По сохранению природы и окружающей среды, бережному отношению к природным богатствам.

Примеры воздействия человека на природу:

1. Строительство завода по добыче драгоценных металлов
2. Вырубка лесов в промышленных целях

Примеры воздействия природы на человека:

1. Лесные пожары, случающиеся вследствие естественных причин
2. Засуха, которая приводит к высыханию почвы и гибели растительности

201. Деятельность какого правоохранительного органа может быть проиллюстрирована с помощью данной фотографии? Используя обществоведческие знания, факты общественной жизни и личный социальный опыт, назовите два других правоохранительных органа и кратко охарактеризуйте круг полномочий каждого из них.



Ответ:

Государственной инспекции безопасности дорожного движения — органа внутренних дел РФ.

Другие правоохранительные органы:

1. Суд. Осуществляет правосудие, ведает разрешением гражданских, трудовых или иных споров, рассматривает уголовные дела.
2. Органы прокуратуры. Осуществляют надзор за соблюдением законов, возбуждают уголовные дела, поддерживают обвинения в суде и представляют государственные интересы в судебном процессе.

202. Какой экономический закон может быть проиллюстрирован с помощью данного изображения? Назовите и кратко поясните два неценовых фактора формирования спроса.



Ответ:

Закон спроса.

Закон спроса: повышение цен обычно ведёт к снижению величины спроса, а снижение цен — к её увеличению.

Неценовые факторы спроса:

– Доходы потребителей. При увеличении доходов потребителей спрос обычно увеличивается.

– Мода. Изменение вкусов потребителя под влиянием моды, рекламы, других факторов вызывает соответствующее изменение спроса на товар.

203. Какой товар изображён на фотографии? Используя обществоведческие знания, факты общественной жизни и личный социальный опыт, назовите и кратко поясните две функции данного товара.



Деньги.

Функции: средство платежа (использование денег для безналичных расчетов); средство обращения (деньги можно использовать при покупке и продаже товаров и услуг)

204. Для иллюстрации какой формы (вида) деятельности может быть использовано изображение женщины в маске? (Укажите не конкретное, а наиболее общее название.) Объясните, в чём состоит сущность данной формы (вида) деятельности. Какова положительная роль данной деятельности в жизни человека? Как Вы думаете, какие качества необходимы женщине, изображённой на фотографии, для того чтобы её деятельность была успешной?



Труд.

Сущность: Труд — форма деятельности, которая направлена на достижение практически полезного результата.

Роль: Данная форма деятельности направлена на достижение практически полезного результата, требует наличия мастерства, умений, знаний.

Качества: внимательность, способность быстро принимать решения, физическая и эмоциональная выносливость.